

LKPD

LEMBAR KERJA PESERTA DIDIK

Tema 6 Subtema 2

Pembelajaran 1

Hebatnya Cita - Citaku

Oleh : I Ketut Darmawan, S.Pd

SD NEGERI 2 DANGIN PURI

NAMA

:

KELAS

:

**KELAS IV
SEMSTER 2**

TUJUAN PEMBELAJARAN

1. Dengan membaca, siswa dapat menemukan makna puisi yang dibacakan secara tertulis dengan tepat.
2. Dengan berdiskusi, siswa dapat membuat puisi dengan tema cita-cita dengan tepat.
3. Dengan melakukan pengamatan, siswa dapat membandingkan siklus hidup hewan di lingkungan sekitar dengan tepat.
4. Dengan berdiskusi, siswa dapat membuat slogan pelestarian hewan di lingkungan sekitar dengan tepat.

PETUNJUK PENGGUNAAN E-LKPD

E-LKPD ini berisi video pembelajaran dari link youtube dan dilengkapi dengan soal-soal interaktif.

Langkah-langkah kegiatan:

1. Lengkapilah nama, no absen, dan kelas terlebih dahulu
2. Simak setiap video sebelum menjawab pertanyaan yang ada pada LKPD.
3. Ketikan jawabanmu pada kolom yang telah disediakan.
4. Ketikan rangkumanmu pada kolom rangkuman
5. Ketika sudah selesai mengerjakan soal bisa langsung klik tombol "Finish" di paling bawah dan akan muncul kolom identitas peserta didik serta bisa langsung diisi.
6. Persentasikan hasilmu saat webmeet melalui aplikasi google meet yang akan disampaikan melalui WhatsApp Group

Bacalah puisi cita-cita berikut ini!

Kau Ajarkan Kami

Cita-citaku menjadi guru
Para guru sangat mulia
Mengajarkan kami ilmu
Belajar berhitung dan membaca.

Karena guru kami tahu
Mana buruk mana yang baik
Bukan sekedar ilmu
Tetapi juga akhlak yang baik.

Tulislah makna puisi tersebut pada kolom dibawah ini!



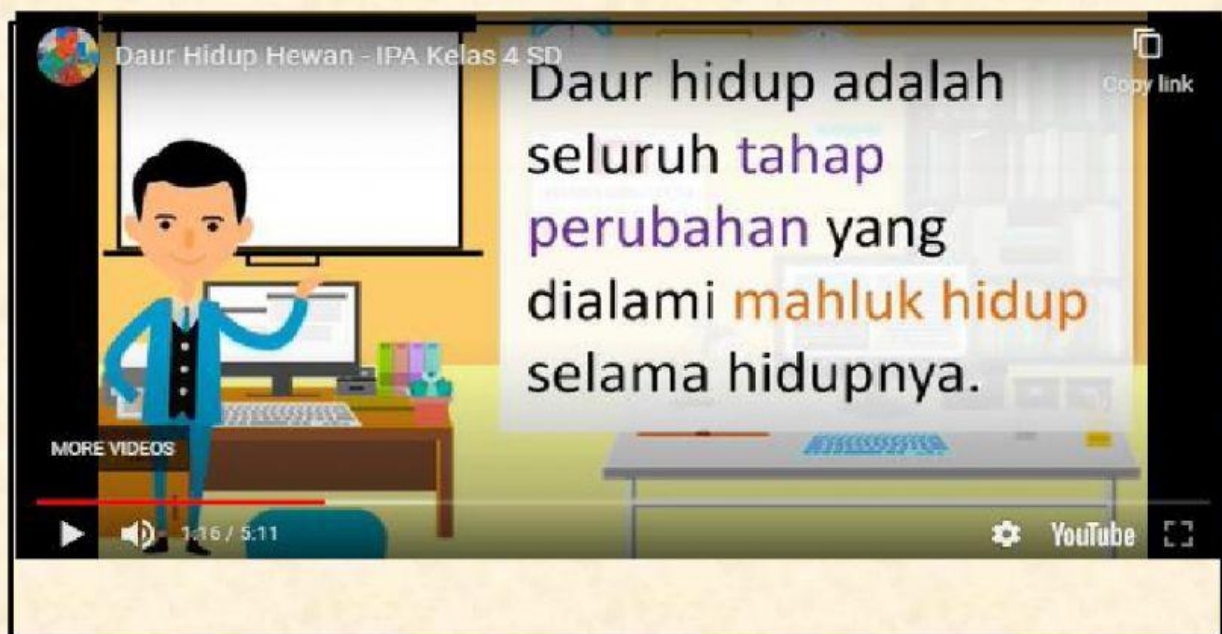
Buatlah puisi dengan tema cita-cita!



Bacalah Materi berikut ini kemudian kerjakan soal sesuai perintah

TAHAPAN PERTUMBUHAN HEWAN

Tahapan pertumbuhan hewan dari kecil sampai dewasa disebut daur hidup hewan. Pada daur hidupnya ada hewan yang mengalami perubahan bentuk, ada juga yang tidak. Hewan yang mengalami perubahan bentuk tubuh dalam daur hidupnya disebut proses metamorfosis. Hewan yang mengalami metamorfosis sempurna mempunyai bentuk tubuh yang berbeda pada setiap tahap hidupnya. Pada saat telur menetas, bentuk tubuh hewan tidak sama dengan bentuk induknya. Sedangkan hewan yang mengalami metamorfosis tidak sempurna setelah menetas memiliki bentuk tubuh yang mirip dengan induknya.

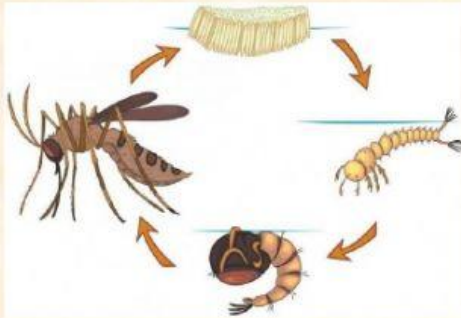


Sumber : <https://www.youtube.com/watch?v=ONnBQaG0cLQ>

Setelah memahami bacaan dan video, silahkan isi pertanyaan berikut:

1. Tahapan pertumbuhan hewan dari kecil sampai dewasa disebut
2. Setelah dewasa, berudu berubah menjadi
3. Sebelum menjadi nyamuk dewasa, jentik nyamuk berubah menjadi

Perhatikan gambar dan pernyataan di bawah ini beri tanda centang pada kolom yang tersedia.



Gambar di atas merupakan metamorfosis nyamuk.

☐

Benar

☐

Salah

Ketika telur capung menetas, berubah menjadi capung muda yang disebut nimfa.

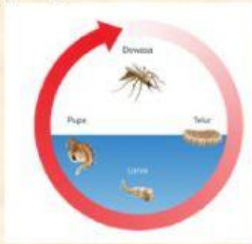
☐

Benar

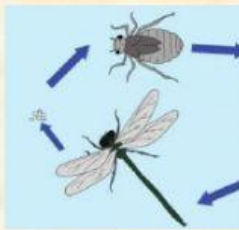
☐

Salah

Perhatikan gambar daur hidup hewan berikut ini dan tarik garis sesuai pernyataan yang benar.



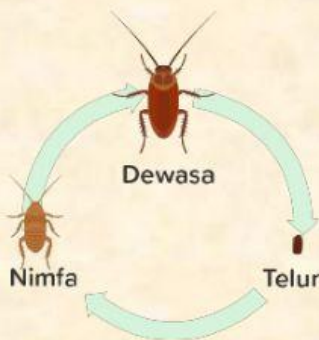
Katak



Nyamuk



Capung



Kecoa

KESIMPULAN