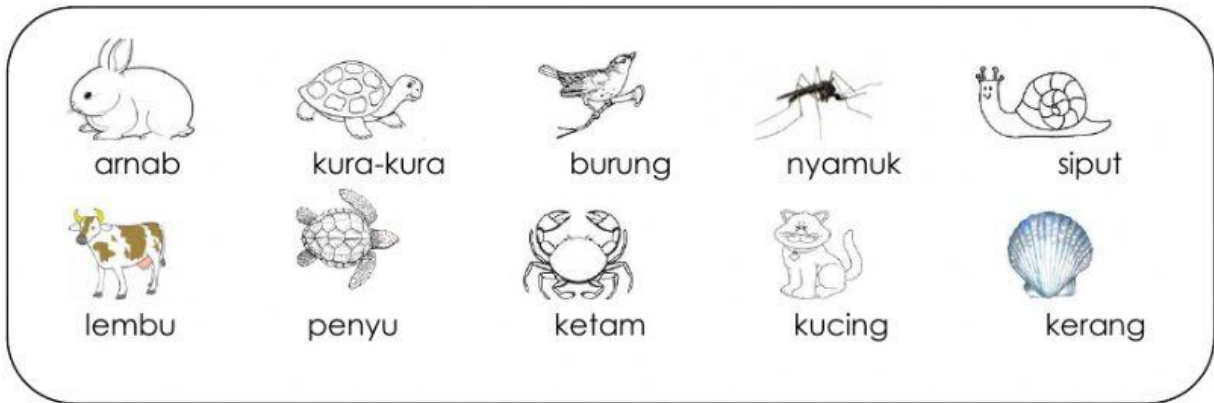


A. Kelaskan haiwan berikut ke dalam kumpulan yang betul.



Haiwan bercangkerang

Haiwan tidak bercangkerang

- 1.
- 2.
- 3.
- 4.
- 5.

- 1.
- 2.
- 3.
- 4.
- 5.

[10 markah]

B. Ramalkan sama ada objek berikut boleh terapung di permukaan air atau tidak. Kemudian senaraikan di bawah.



Objek yang boleh terapung

Objek yang tidak boleh terapung

1.

1.

2.


2.

3.

3.

[6 markah]






C. Lengkapkan jadual di bawah mengenai buah durian yang telah masak.



Ciri-ciri	Pemerhatian	Deria yang digunakan
1. Bau	Wangi	Bau
2. Bentuk		
3. Permukaan kulit		
4. Rasa		
5. Warna isi		
6. Warna kulit		

[10 markah]

D. Ukur dan rekodkan ukuran bagi panjang pensel berikut dengan menggunakan pembaris dalam unit sentimeter (**CM**).

	Pensel	Ukuran
1	cm
2	cm
3	cm
4	cm
5	cm

[5 markah]

F. Perhatikan gambar di bawah. Adakah murid-murid menggunakan dan mengendalikan peralatan dan bahan sains dengan betul. Tuliskan YA atau TIDAK.



[6 markah]

G. Senaraikan enam kemahiran proses sains

- 1.....
- 2.....
- 3.....
- 4.....
- 5.....
- 6.....

[6

markah]