

Prueba de EMAT para 3ero de básica  
correspondiente al primer parcial

Nombre del estudiante: \_\_\_\_\_

Fecha: \_\_\_\_\_

1. Cuenta la cantidad de dólares



2. Escribe los números que salen del robot.



3. Observa.



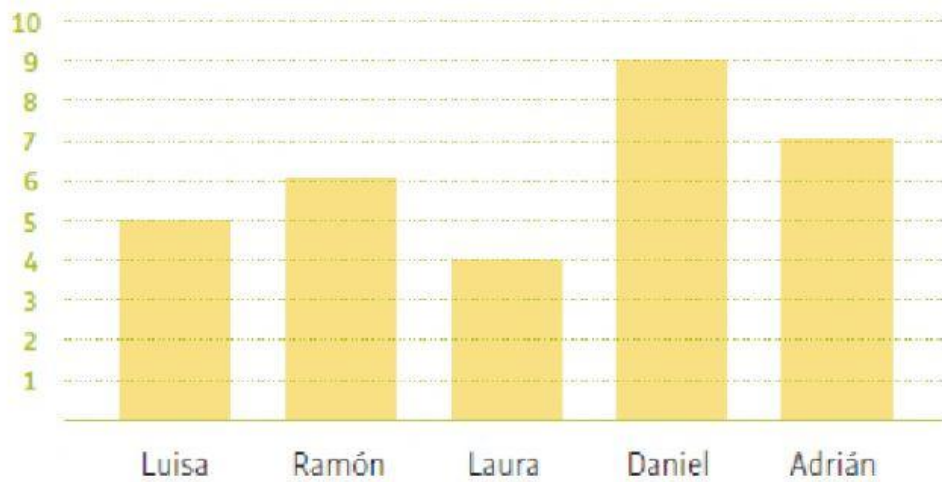
- Tengo \$13. ¿Puedo comprar la camiseta verde y amarilla?



- Con los \$13 compré una camiseta y me devolvieron \$7 ¿Qué camiseta compré?

La camiseta color \_\_\_\_\_

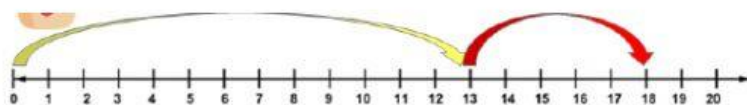
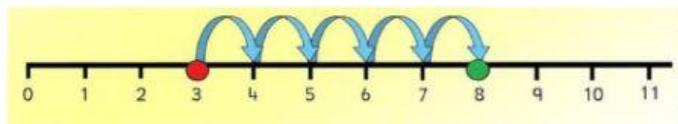
4. El siguiente diagrama de barras muestra los libros leídos este año por un grupo de amigos.



Contesta.

- ¿Cuántos libros ha leído Adrián?
- ¿Cuántos libros más ha leído Ramón que Luisa?

5. Selecciona la recta numérica que representa la suma:



$13 + 5 =$