


# MATEMÁTICAS GRADO 2°

FECHA:

NOMBRE ESTUDIANTE:

## 1. Completa las siguientes series



Series 1: 2, 4, , , , , ,

Series 2: 3, 6, , , , ,

www.wikihow.com


## 2. Identificar y marcar con una X los resultados de la tabla del 2

1	2	3	18	10
12	5	4	7	9
15	17	14	19	8
6	13	20	6	16



## 3. Lee, observa y completa.

¿Cuántas patas tienen en total estas cigüeñas?




Cada cigüeña tiene 2 patas.

Hay 5 cigüeñas.

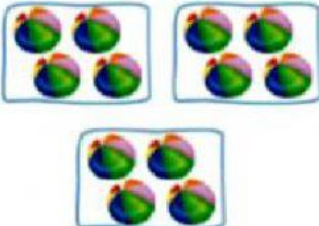
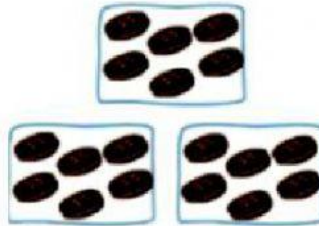
+  +  +  +  =

2 ×  =

Tienen  patas



Represente como adición y multiplicación la

 <p>Hay ____ grupos En cada grupo hay ____ ____ x ____ = ____</p>	 <p>Hay ____ grupos En cada grupo hay ____ ____ x ____ = ____</p>
--	---

siguiente situación. 4. Observa cada ilustración y completa.

5. Observa y completa



Expreso como suma:

$$\underline{\quad} + \underline{\quad} + \underline{\quad} + \underline{\quad} + \underline{\quad} + \underline{\quad} + \underline{\quad} = \underline{\quad}$$

Expreso como multiplicación:

$$\underline{2} \times \underline{\quad} = \underline{\quad}$$