

Latihan Matematika

Operasi Hitung Pecahan



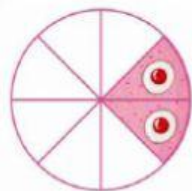
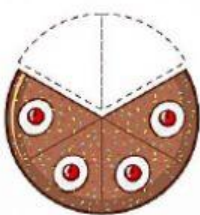

Kelas 5 SDIT Asy Syukriyyah

Nama:

Kelas:

Kerjakan latihan berikut sesuai dengan petunjuk pengerjaan!

A. Tentukan nilai pecahan yang sesuai dengan gambar (isilah dengan angka pada titik-titik dan Tarik kartu bilangan pada kolom persen dan decimal)

	Pecahan Biasa	Persen	Desimal
	$\frac{\dots}{\dots}$	<input type="text"/>	<input type="text"/>
	$\frac{\dots}{\dots}$	<input type="text"/>	<input type="text"/>
	$\frac{\dots}{\dots}$	<input type="text"/>	<input type="text"/>
	$\frac{\dots}{\dots}$	<input type="text"/>	<input type="text"/>
	$\frac{\dots}{\dots}$	<input type="text"/>	<input type="text"/>

50%	75%
0,25	0,5
0,75	0,67
0,6	25%
60%	67%

Jika sudah selesai, klik FINISH kemudian klik CHECK MY ANSWER dan lihat di pojok kiri atas, dan screenshot hasil nilai mu