



ESCUELA DE EDUCACIÓN BÁSICA "EDUARDO KINGMAN"

Sibambe # 510 y Ambato

2-154-409

CALIFICACIÓN

ASIGNATURA: MATEMÁTICAS

AÑO BÁSICO: 3ERO A y B

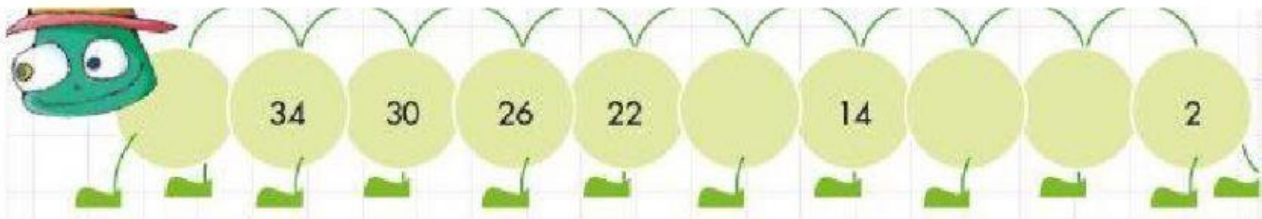
NOMBRE: _____

FECHA: _____

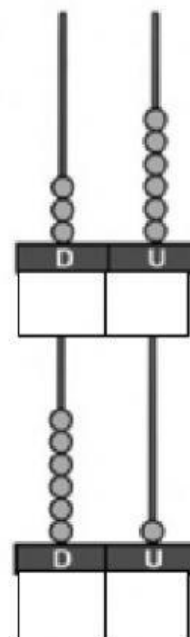
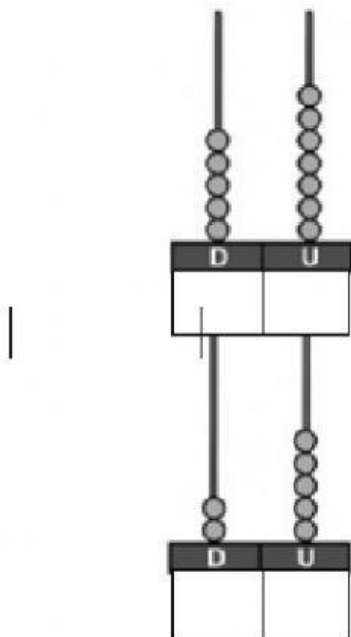
EVALUACIÓN CORRESPONDIENTE AL PRIMER PARCIAL PRIMER QUIMESTRE

FIRMA DEL PROFESOR

1.-ENCUENTRA EL PATRÓN Y COMPLETA LA SUCESIÓN (2 PUNTOS)



2.-CUENTA EL ABACO Y ESCRIBE LAS CANTIDADES. (1 PUNTO)



3.-OBSERVA LOS SIGUIENTES NÚMEROS Y SEÑALA SI ES PAR E IMPAR.
(1 PUNTO)

61

PAR

IMPAR

63

PAR

IMPAR

44

PAR

IMPAR

80

PAR

IMPAR

4.-SELECCIONA LA ESCRITURA DE LA SIGUIENTES CANTIDADES (1PUNTOS)

26

15

52

98

65

5.-REALIZA LA APROXIMACIÓN A LA DECENA MÁS CERCANA Y SELECCIONA EL NÚMERO CORRECTO (1 PUNTO)

32

30

40

27

20

30

18

10

20

66

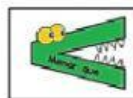
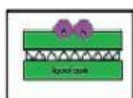
60

70

6.-ESCRIBE EL NÚMERO ANTERIOR Y POSTERIOR (2 PUNTOS)

<input type="text"/>	85	<input type="text"/>		<input type="text"/>	60	<input type="text"/>
<input type="text"/>	79	<input type="text"/>		<input type="text"/>	59	<input type="text"/>

7. ARRATRA EL SIGNO MAYOR MENPR E IGUAL QUE (1 PUNTO)



75

57

16

24

48

32

93

93

8.-DICTADO DE CANTIDADES (1 PUNTO)