



**ESCUELA DE EDUCACIÓN GENERAL BÁSICA FISCOMISIONAL
"CRISTO REY"**

Dirección: Parroquia Bartolomé Ruiz Calle: Sucre y 24 de Mayo.



EVALUACIÓN PARCIAL DEL 1ER QUIMESTRE DE MATEMÁTICAS"

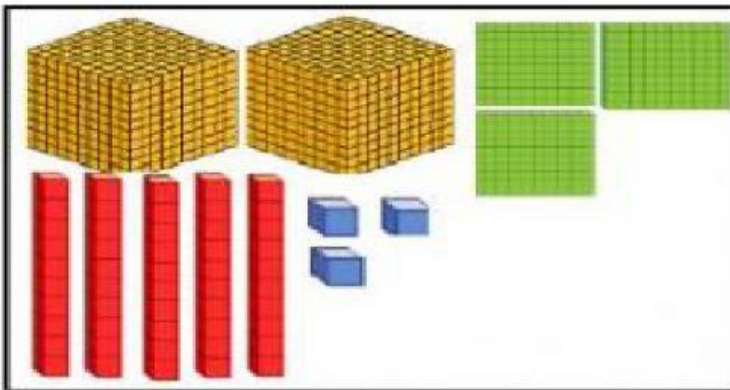
FECHA: Esmeraldas, ____ de julio / 21

AÑO: 4TOS PARALELO: A- B- C- D

DOCENTE: Licda. Viviana Delgado.

LEA Y SELECCIONE LA RESPUESTA CORRECTA:

1.- Cuente los bloques y verifique que número forman:



A.-2 353

B.-2 343

C.-2 333

D.-2 332

2.- La descomposición correcta de la siguiente cantidad 2 456 es:

A.-2 000+400+50

C.-2 000+400+50+6

B.-2 000+400+5

D.-2 000+400

3.- 3 421 Se escribe:

A.-Tres mil veintiuno

B.-Tres mil cuatrocientos veintiuno

C.-Trescientos veintiuno

D.-Tres mil cuatrocientos



**ESCUELA DE EDUCACIÓN GENERAL BÁSICA FISCOMISIONAL
"CRISTO REY"**

Dirección: Parroquia Bartolomé Ruiz Calle: Sucre y 24 de Mayo.



4.- El número que va antes de 7 456 es:

A.-7 458

B.-7 456

C.-7 457

D.-7 455

5.-COMPLETE SEGÚN CORRESPONDA

Los términos que hacen falta en las secuencias

X2

2			
---	--	--	--

+3

12			
----	--	--	--

6.- Los números que hacen falta en la siguiente serie son:

1 000		3 000			6 000			9 000
-------	--	-------	--	--	-------	--	--	-------

7.-ORDENAR SEGÚN CORRESPONDA

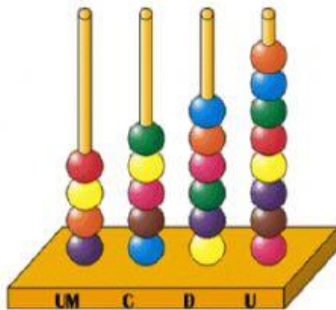
Las cantidades de la tabla de mayor a menor

5 489	876	58	9 785
-------	-----	----	-------

--	--	--	--

8.-UNIR CON LINEAS LAS RESPUESTAS ACERTADAS

Los ábacos según su cantidad correcta



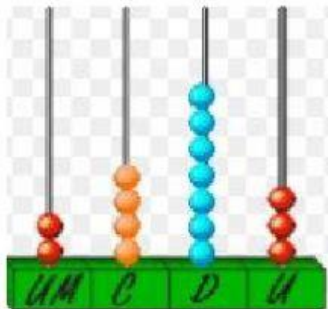
A

4 578

2 473

2 563

4 568



B