

PRÁCTICA CALIFICADA DE ARITMÉTICA

Nombre: _____ Fecha: 12/07/21




1. Asocia con una línea, el número con su representación gráfica.

14

13

11

15



2. Selecciona solo los carteles que representan al número indicado en el letrero de cada niño.



dieciséis

$$10 + 7$$

10 70



doce

$$10 + 5$$

10D 2U



diecinueve

$$10 + 9$$

10D 9U

3.- Observa la cantidad y coloca las unidades y decenas en el tablero posicional.

	D	U
17		
10		
6		
16 unidades		
5 + 7		