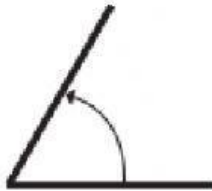
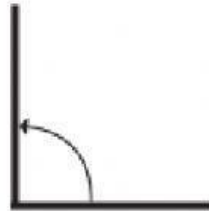


## TIPOS DE ÁNGULOS

1. Selecciona la opción correcta según el tipo de ángulos.



- a) agudo
- b) recto
- c) obtuso
- d) llano



- a) agudo
- b) recto
- c) obtuso
- d) llano



- a) agudo
- b) recto
- c) obtuso
- d) llano



- a) agudo
- b) recto
- c) obtuso
- d) llano



- a) agudo
- b) recto
- c) obtuso
- d) llano



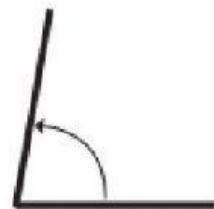
- a) agudo
- b) recto
- c) obtuso
- d) llano



- a) agudo
- b) recto
- c) obtuso
- d) llano



- a) agudo
- b) recto
- c) obtuso
- d) llano



- a) agudo
- b) recto
- c) obtuso
- d) llano