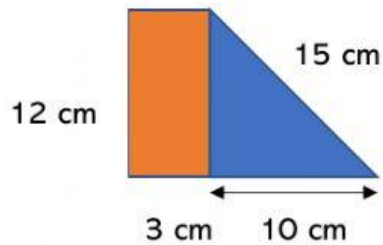


NAMA MURID : _____

JAWAB SEMUA SOALAN

- 1) Rajah dibawah menunjukkan gabungan sebuah segiempat tepat dan sebuah segitiga.



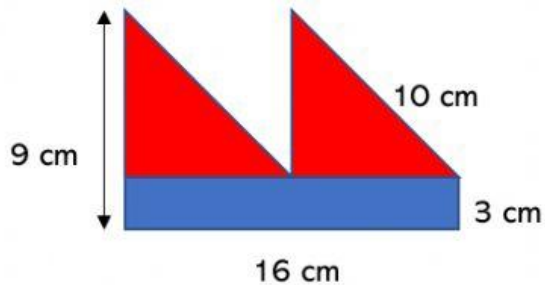
Berapakah perimeter, dalam cm, seluruh rajah itu?

40 cm

42 cm

43 cm

- 2) Rajah dibawah menunjukkan gabungan bentuk dua buah segi tiga yang sama dan sebuah segi empat tepat.



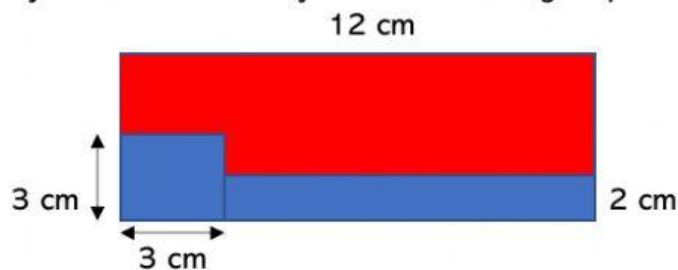
Berapakah perimeter, dalam cm, seluruh rajah itu?

58 cm

54 cm

50 cm

- 3) Rajah dibawah menunjukkan sebuah segiempat tepat.



Hitung perimeter, dalam cm, bagi kawasan yang berwarna biru.

30 cm

36 cm

40 cm