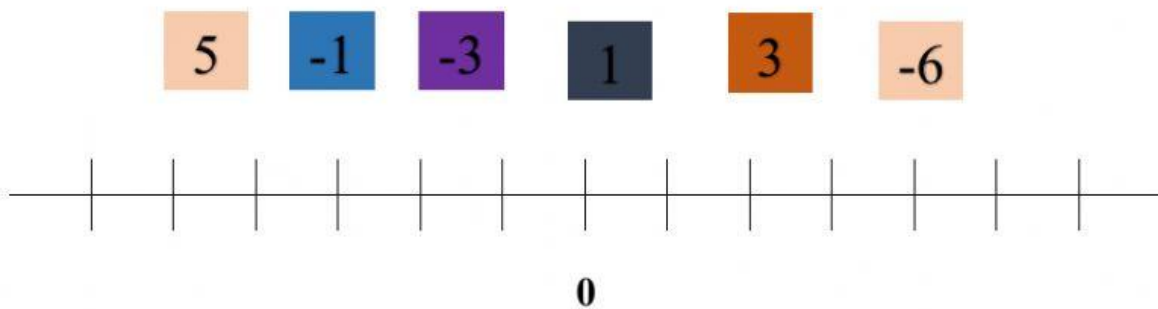
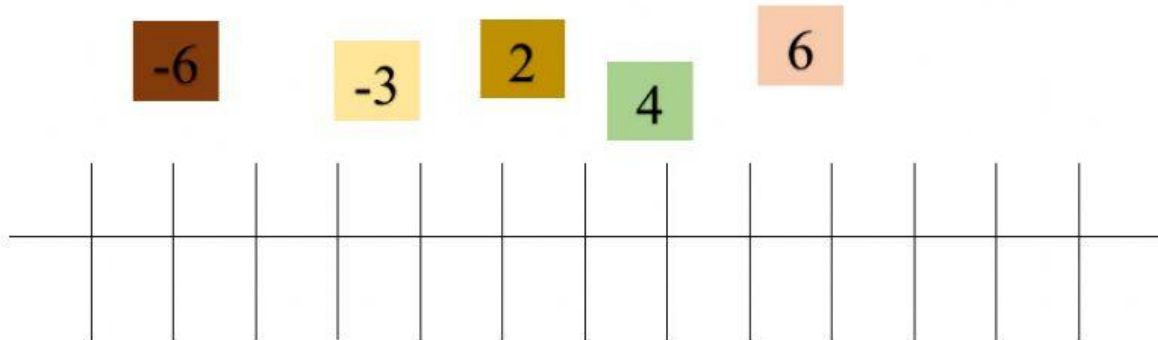


ORDEN DE LOS NÚMEROS ENTEROS

1. Ubique en el orden correcto de los siguientes números enteros



2. Ordene los números enteros en forma descendente (mayor a menor)

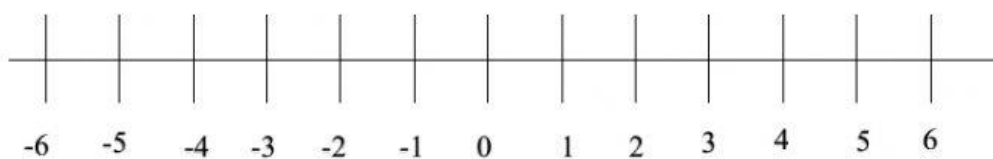
8	10	-5	7	-3
---	----	----	---	----

--	--	--	--	--	--

-10	-5	3	7	-3
-----	----	---	---	----

--	--	--	--	--	--

3. Seleccione el signo $>$ de mayor que o $<$ menor que según corresponda



a) $+4 \dots +2$

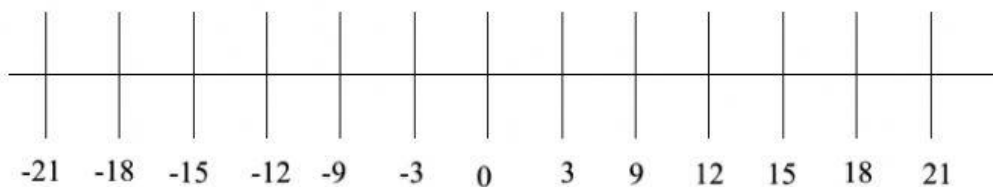
d) $+5 \dots +3$

b) $0 \dots -3$

e) $-5 \dots +8$

c) $-7 \dots -4$

f) $+7 \dots -1$



a) $-18 \quad +12$

b) $+15 \quad -9$

c) $-3 \quad +15$

d) $-6 \quad +18$

e) $-21 \quad +6$

