


CICLO DE VIDA

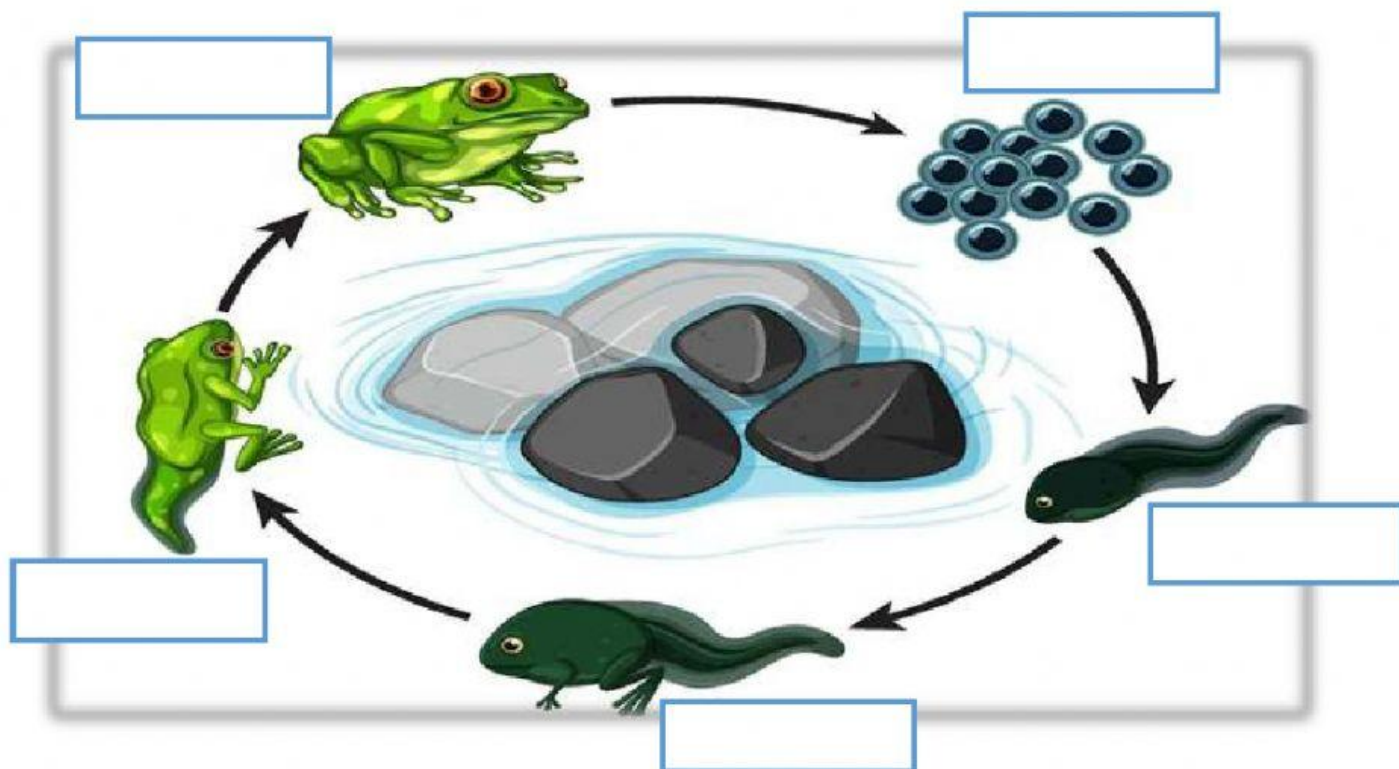
1-Marca con un gancho las casillas de los seres vivos.

					
<input type="checkbox"/>	<input type="checkbox"/>	<input type="checkbox"/>	<input type="checkbox"/>	<input type="checkbox"/>	<input type="checkbox"/>
					
<input type="checkbox"/>	<input type="checkbox"/>	<input type="checkbox"/>	<input type="checkbox"/>	<input type="checkbox"/>	<input type="checkbox"/>

2-Enumera del 1 al 6 las imágenes, según el orden de las etapas del ciclo de vidas de las personas. Escribe en los recuadros el número correcto.

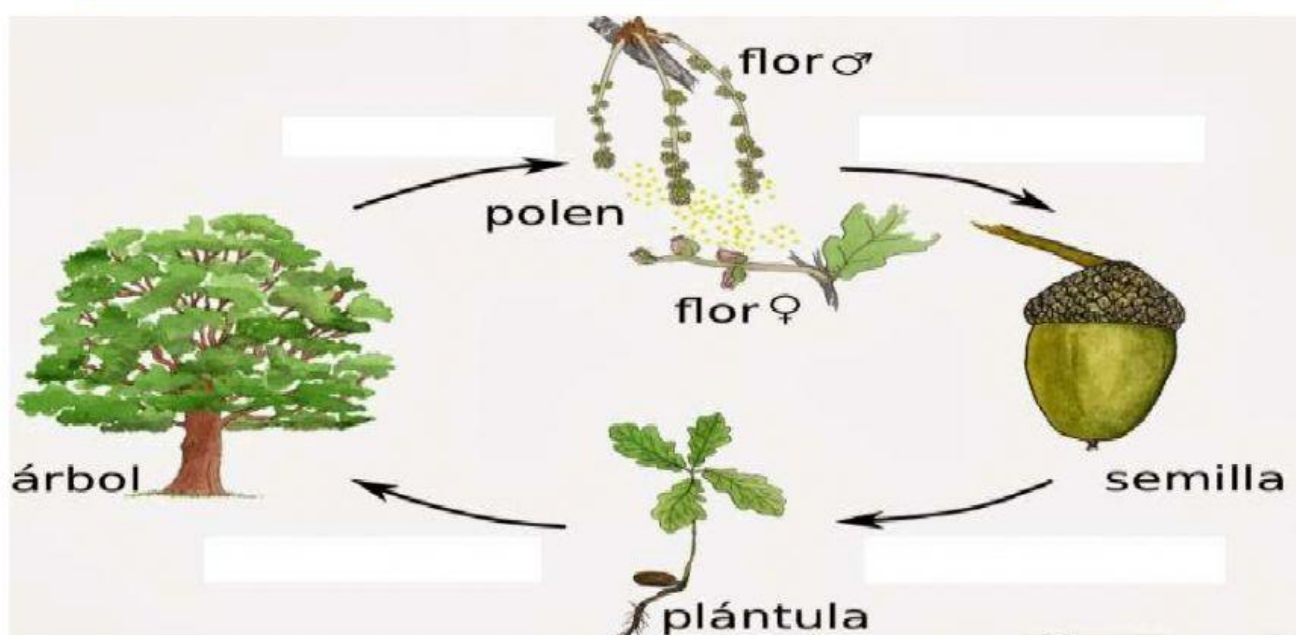
					
<input type="checkbox"/>	<input type="checkbox"/>	<input type="checkbox"/>	<input type="checkbox"/>	<input type="checkbox"/>	<input type="checkbox"/>

3-Observe la imagen y selecciona el nombre correcto para cada etapa del ciclo de la rana.



4- Observa, lee y organiza los siguientes nombres al lugar que corresponde, de acuerdo al ciclo de las plantas con flores.

Polinización Maduración Germinación Floración



5- Ubique el animalito en el hábitat que pertenece.

