


PRUEBA SUMATIVA DE MATEMÁTICAS
PRIMER PARCIAL- BLOQUE #1 PRIMER QUIMESTRE
"ESCUELA DE EDUCACIÓN BÁSICA PARTICULAR CIUDAD DE PORTOVIEJO"
2DO DE BÁSICA


ESTUDIANTE:

DOCENTE: Lourdes Valle

- 1.- ARRASTRA AL ESPACIO VACÍO, EL SÍMBOLO DE PERTENENCIA (\in), O NO PERTENENCIA (\notin), QUE CORRESPONDE A CADA EJERCICIO.



AL CONJUNTO DE



AL CONJUNTO DE




AL CONJUNTO DE







Números Ordinales

2.- Escribe debajo de los elefantes el número **ordinal** correspondiente:



3.- ELABORA UNA TABLA DE CONTEO ARREASTRANDO LA FICHA DONDE CORRESPONDE

ÚTILES	CONTEO	TOTAL
		
		
		

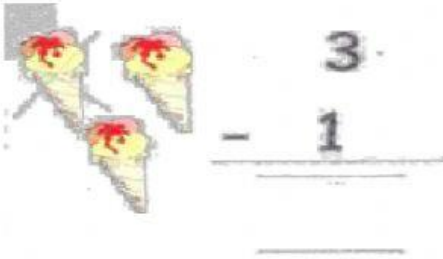


9 6

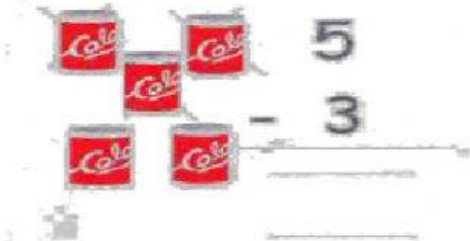
12



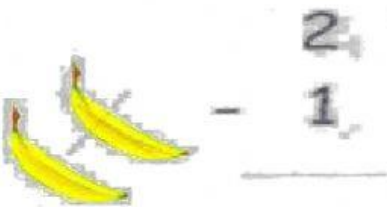
4.- UNIR CON LINEA LA SUSTRACCIÓN O RESTA CON SU RESULTADO CORRECTO.



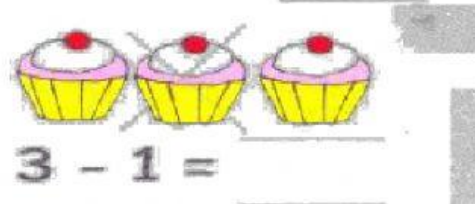
1




2



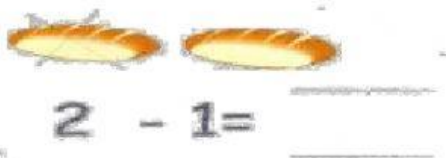
2



1



2



2

5.-COLOCAR EL NÚMERO QUE FALTA PARA COMPLETAR LA ADICIÓN O SUMA

$$\square + 6 = 11$$

$$7 + 7 = \square$$

$$5 + \square = 15$$

10

5

14