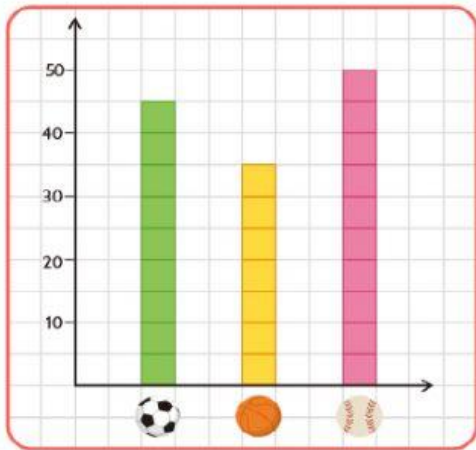


ACTIVIDAD INTERACTIVA DE ESTADÍSTICA

MODA – MEDIANA – MEDIA

1. Escribe la respuesta correcta en cada caso:

a.



Moda:

b.

Tabla de frecuencia	
Categorías	Frecuencia
Manzana	18
Fresa	12
Mango	6
Banano	3
Granadilla	9
Mandarina	15



Moda:

c. Observa la imagen. Completa la tabla de frecuencia y escribe cuál es la moda:




TABLA DE FRECUENCIA	
CATEGORÍAS	FRECUENCIA

Moda:

d.

Películas	Alumnos del curso
Los Pitufos	12
Thor	16
Linterna Verde	10
Crepúsculo	6



Mediana:

e.

Tiempo	Número de días
Soleado	12
Nubes y sol	9
Nublado	5
Lluvia	4

Mediana:

f.

N.º DE MASCOTAS	RECUENTO	TOTAL
0		10
1		8
2		3
3		2
4		1

Mediana:

g.

Color	Frecuencia
rojo	6
azul	9
verde	3
amarillo	2
naranja	5




Media:

h.

Helados	Frecuencia
Chocolate	10
Manjar	7
Vainilla	2
Crema	1

Media:

i.

Mascotas de las niñas y los niños de 1.º grado		
Mascota	Conteo	Total
		2
		3
		7

Media: