


السؤال ١١ إلى السؤال ١٥ (٥ درجات)  
اكتب الأوقات للساعة الآتية.

الثانية إلا الربع	السادسة إلا الثلث
الواحدة إلا العشرة	السابعة و الربع
الخامسة إلا الخمسة	


الساعة (١١)




الساعة (١٢)



الساعة (١٣)



الساعة (١٤)



الساعة (١٥)

