

LKPD STATISTIKA



NAMA:



KOMPETENSI DASAR

3. 11 Menjelaskan data diri peserta didik dan lingkungannya yang disajikan dalam bentuk diagram batang
4. 11 Mengumpulkan data diri peserta didik dan lingkungannya dan menyajikan dalam bentuk diagram batang

INDIKATOR



- 3.11.1 Menguraikan data yang terdapat dalam diagram batang (C4)
- 3.11.2 Menafsirkan informasi dari diagram batang (C5)
- 4.11.1 Membuat diagram batang berdasarkan data yang diperoleh (P3)



PETUNJUK

- Bacalah LKPD ini dengan cermat
- Kerjakan secara kelompok
- Tanyakan pada guru apabila kesulitan dalam mengerjakan

AYO MENGAMATI!

Banyak surat di dalam juz 29 adalah 11 surat. Uztad Wahyu ingin mengecek banyaknya surat yang sudah dihafalan anak-anak kelas IV A sebelum munaqosah hafalan juz 29. Diketahui data banyaknya surat dari juz 29 yang sudah dihafalkan anak-anak kelas IV A sebagai berikut :

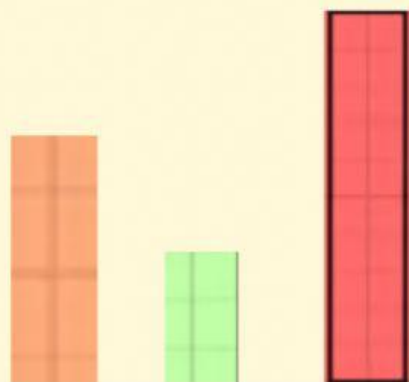
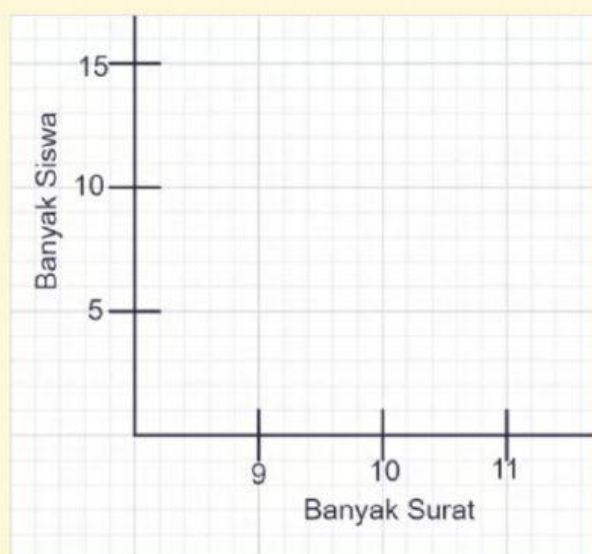
9 10 9 10 11 11 11 9 10 9
11 11 11 10 10 11 10 10 11 10
10 10 11 10 10 11 10 10 10 9

AYO KERJAKAN!

Lengkapilah tabel dan diagram batang berikut berdasarkan data banyak surat yang dihafalkan di juz 29 dengan cara memilih jawaban yang sesuai!

Banyak Surat	Banyak Siswa
9	
10	
11	

DATA BANYAK SURAT YANG DIHAFALKAN DI JUZ 29



Pada akhir tahun 2020, pemerintah melalui Badan Pusat Statistika mengadakan Sensus Penduduk. Hasil sensus penduduk Indonesia menurut pulau disajikan pada diagram batang berikut.



Jawablah pertanyaan berdasarkan data Penduduk Indonesia Menurut Pulau Hasil SP2020 pada diagram batang tersebut dengan menarik garis dari soal ke jawaban yang benar!

• PULAU DENGAN PENDUDUK TERBANYAK.

SUMATERA

• PULAU DENGAN PENDUDUK PALING SEDIKIT.

BALI - NUSA TENGGARA

• PULAU DENGAN JUMLAH PENDUDUK 15 JUTA JIWA.

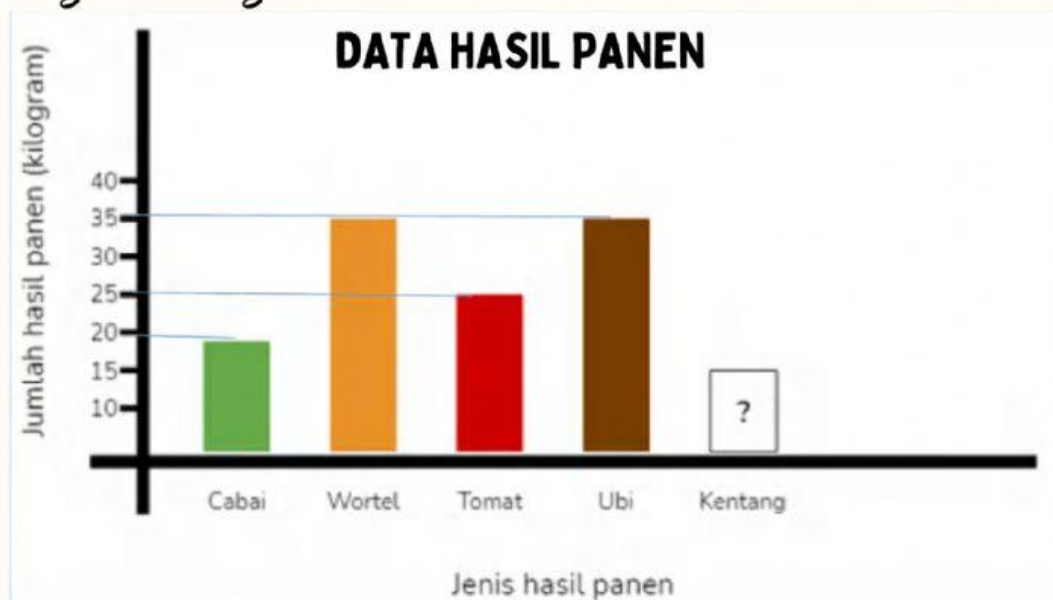
JAWA

• PULAU DENGAN JUMLAH PENDUDUK 58,6 JUTA JIWA.

MALUKU - PAPUA



Pak Ahmad seorang petani yang mempunyai lima jenis tanaman di kebunnya. Setiap pekan, Pak Ahmad memanen hasil kebunnya. Untuk pekan ini jumlah seluruh hasil panen adalah 150 kg. Hasil panen kebun pak Ahmad disajikan pada diagram batang berikut.



Jawablah pertanyaan berdasarkan data Hasil Panen pada diagram batang tersebut dengan memilih jawaban yang sesuai!

- **JUMLAH HASIL PANEN KENTANG**
- **JUMLAH HASIL PANEN WORTEL DAN UBI**
- **SELISIH HASIL PANEN KENTANG DAN CABAI**