

ESCOLA : _____

ALUNO(A): _____ DATA: ____ / ____ / ____

OBA! MATEMÁTICA

1) COMPLETE COM OS NÚMEROS FALTOSOS:

| | | | | | | | | | |
|----|--|--|--|--|--|--|--|--|----|
| 20 | | | | | | | | | 29 |
|----|--|--|--|--|--|--|--|--|----|

| | | | | | | | | | |
|----|--|--|--|--|--|--|--|--|----|
| 40 | | | | | | | | | 49 |
|----|--|--|--|--|--|--|--|--|----|

| | | | | | | | | | |
|----|--|--|--|--|--|--|--|--|----|
| 70 | | | | | | | | | 79 |
|----|--|--|--|--|--|--|--|--|----|

| | | | | | | | | | |
|----|--|--|--|--|--|--|--|--|----|
| 90 | | | | | | | | | 99 |
|----|--|--|--|--|--|--|--|--|----|

| | | | | | | | | | |
|-----|--|--|--|--|--|--|--|--|-----|
| 100 | | | | | | | | | 109 |
|-----|--|--|--|--|--|--|--|--|-----|

| | | | | | | | | | |
|-----|--|--|--|--|--|--|--|--|-----|
| 120 | | | | | | | | | 129 |
|-----|--|--|--|--|--|--|--|--|-----|

2) COMPLETE COM OS NÚMEROS VIZINHOS:

| | | |
|--|------------|--|
| | 88 | |
| | 101 | |
| | 126 | |
| | 65 | |
| | 32 | |
| | 148 | |

3) RESOLVA AS ADIÇÕES. LEMBRE-SE QUE AQUI IRÁ JUNTAR OS NÚMEROS, SE PRECISAR USE O LÁPIS DE COR OU O MATERIAL DOURADO.

$62 + 6 =$

| | |
|----------|----------|
| D | U |
| | |
| | |
| | |

$82 + 5 =$

| | |
|----------|----------|
| D | U |
| | |
| | |
| | |

$85 + 4 =$

| | |
|----------|----------|
| D | U |
| | |
| | |
| | |

$10 + 3 =$

| | |
|----------|----------|
| D | U |
| | |
| | |
| | |

$47 + 31 =$

| | |
|----------|----------|
| D | U |
| | |
| | |
| | |

$37 + 20 =$

| | |
|----------|----------|
| D | U |
| | |
| | |
| | |

$23 + 23 =$

| | |
|----------|----------|
| D | U |
| | |
| | |
| | |

$23 + 16 =$

| | |
|----------|----------|
| D | U |
| | |
| | |
| | |



4) RESOLVA AS SUBTRAÇÕES, LEMBRE-SE QUE AQUI VOCÊ TERÁ QUE TIRAR, PERDER.(DAR PARA A MAMÃE).
USE O MATERIAL CONCRETO, PODE SER LÁPIS DE COR OU MATERIAL DOURADO.

$68 - 12 =$

| | |
|----------|----------|
| D | U |
| | |
| | |
| | |

$87 - 42 =$

| | |
|----------|----------|
| D | U |
| | |
| | |
| | |

$87 - 24 =$

| | |
|----------|----------|
| D | U |
| | |
| | |
| | |

$79 - 15 =$

| | |
|----------|----------|
| D | U |
| | |
| | |
| | |

$$69 - 45 =$$

| | |
|---|---|
| D | U |
| | |
| | |
| | |

$$77 - 34 =$$

| | |
|---|---|
| D | U |
| | |
| | |
| | |

$$99 - 52 =$$


| | |
|---|---|
| D | U |
| | |
| | |
| | |

$$96 - 55 =$$


| | |
|---|---|
| D | U |
| | |
| | |
| | |

5) SITUAÇÕES PROBLEMAS.

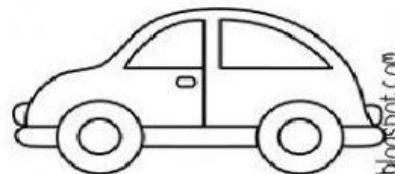
NUMA FAZENDA HAVIA 8 VAQUINHAS E 3 BOIS. QUANTOS ANIMAIS A FAZENDA TINHA NO TOTAL?



O AQUÁRIO DE ALICE POSSUI 5 PEIXINHOS DOURADOS E 4 PEIXES PALHAÇO. QUANTOS PEIXES NO TOTAL ALICE TEM?



PEDRO TEM 7 CARRINHOS E FÁBIO TEM 6. JUNTOS ELES TEM QUANTOS CARRINHOS?



LARA COMPROU UMA BONECA DE 9 REAIS E UMA BOLA QUE CUSTOU 5 REAIS. QUANTO ELA GASTOU?

