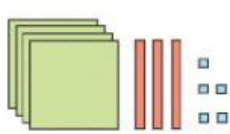


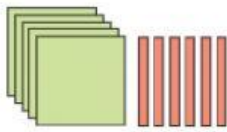
Cuenta y completa la descomposición de cada número.



C	D	U

$$435 = \underline{\quad} C + \underline{\quad} D + \underline{\quad} U$$

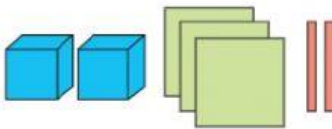
$$435 = 400 + \underline{\quad} + \underline{\quad}$$



C	D	U

$$\underline{\quad} = \underline{\quad} C + \underline{\quad} D$$

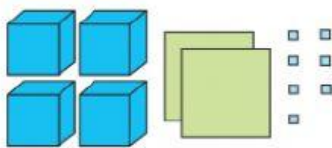
$$\underline{\quad} = \underline{\quad} + \underline{\quad}$$



UM	C	D	U

$$\underline{\quad} = \underline{\quad} UM + \underline{\quad} C + \underline{\quad} D$$

$$\underline{\quad} = \underline{\quad} + \underline{\quad} + \underline{\quad}$$



UM	C	D	U

$$\underline{\quad} = \underline{\quad} UM + \underline{\quad} C + \underline{\quad} U$$

$$\underline{\quad} = \underline{\quad} + \underline{\quad} + \underline{\quad}$$

Escribe cómo se lee el número de cada banderín.



Lee y escribe en cada coche el número de su matrícula.

- El número de la matrícula del coche rojo es dos mil ochocientos diecinueve.
- El número de la matrícula del coche verde es cuatro mil novecientos diez.
- El número de la matrícula del coche azul es siete mil cuatrocientos dieciocho.
- El número de la matrícula del coche amarillo es nueve mil noventa.
- El número de la matrícula del coche naranja es nueve mil setecientos cinco.

