










EL PUNTILLO




MENCIONE LOS RESULTADOS DE CADA SUMA Y LOS VALORES DE CADA FIGURA MUSICAL MÁS SUS PUNTILLOS:

		=	<input type="text"/>
<input type="text"/>	<input type="text"/>		

		=	<input type="text"/>
<input type="text"/>	<input type="text"/>		

		=	<input type="text"/>
<input type="text"/>	<input type="text"/>		

			=	<input type="text"/>
<input type="text"/>	<input type="text"/>	<input type="text"/>		

			=	<input type="text"/>
<input type="text"/>	<input type="text"/>	<input type="text"/>		