

Encierra la alternativa correcta.

1. ¿Cuál de estos animales posee esqueleto y columna vertebral?

A.



B.



C.



2. ¿Cuál de estos animales es invertebrado?

A.



B.



C.



3. ¿Cuál de estos animales pertenece al grupo de los arácnidos?

A.



B.



C.



4. ¿Cuál de estos grupos de animales son vertebrados?

A. Crustáceos.

B. Mamíferos.

C. Insectos.

5. ¿Cuál de estos animales es un invertebrado marino?

A.



B.



C.



6. ¿Cuál de las siguientes características corresponde a la de un insecto?

A. Poseen cuatro patas.

B. Algunos tienen alas y vuelan.

C. Tienen columna vertebral.

7. Observa las imágenes y responde.





- a. Carlos y Javiera desean clasificar estos animales en dos grupos.  
¿Qué características deberían elegir?

**Característica 1:** \_\_\_\_\_

**Característica 2:** \_\_\_\_\_





8. Marca con un ✓ las características que corresponden a cada animal.

Características	Saltamontes	Cangrejo
		
¿Es invertebrado?	<input type="radio"/>	<input type="radio"/>
¿Tiene alas?	<input type="radio"/>	<input type="radio"/>
¿Tiene antenas?	<input type="radio"/>	<input type="radio"/>
¿Su cuerpo está dividido en tres partes?	<input type="radio"/>	<input type="radio"/>
¿Tiene seis patas?	<input type="radio"/>	<input type="radio"/>





### El animal extraño

Observa los siguientes grupos de animales y marca el que no pertenece en cada caso.





**Grupo 1**

**Grupo 2**

**Grupo 3**

**Grupo 4**

