

试卷一 圈出正确的答案。

1 哪种方法能准确地测量容器里的水温?

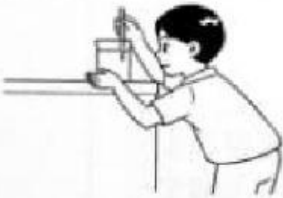
A



B



C



D



2 图 1 显示一碗热汤被搁置在桌上。



图 1

哪项显示热汤在两个小时后的观察结果?

A 变冷了

B 变热了

C 温度保持不变

D 先变冷, 再变热

3 图 2 显示一项实验的设置。

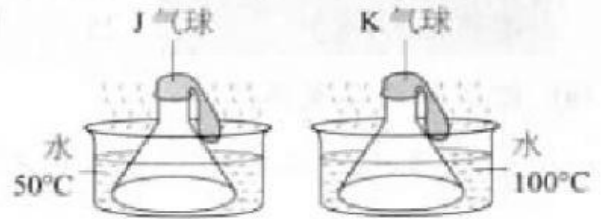


图 2

哪项有关上述实验在一分钟后的观察结果的说明是正确的?

A J气球的体积比K气球大


B K气球的体积比J气球大

C J气球爆裂了, 而K气球没有

D J气球和K气球的体积是相同的

4 哪项显示热胀冷缩在日常生活中的应用?

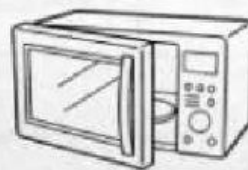
A



B



C



D

