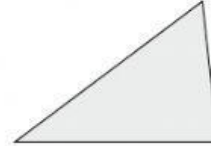
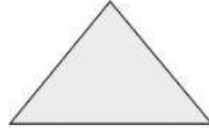
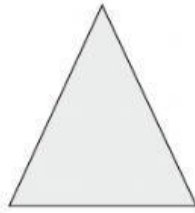




# FICHA FIGURAS PLANAS - 1

1 ¿Cuál de estos triángulos es equilátero? Márcalo.



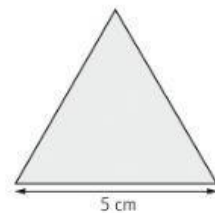
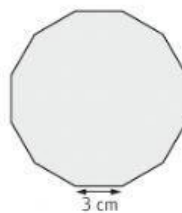
2 Fíjate en los lados y en los ángulos de estas figuras y dí qué tipo de paralelogramos son.



3 Completa la tabla siguiente (haz el dibujo en una hoja antes para contar mejor sus partes).

polígono	número de lados	número de diagonales	número de vértices
triángulo			
cuadrado			
pentágono			
hexágono			

4 ¿Cuánto miden los perímetros de los siguientes polígonos regulares?



Mide \_\_\_\_\_ cm

Mide \_\_\_\_\_ cm

Mide \_\_\_\_\_ cm