

1. Ubica las partes del microscopio:

Platino

Ocular

Pie

Objetivo

Macrómetro



2. Relaciona cada organismo con el tipo de célula que lo conforma.



Células eucariotas



Células Procariotas

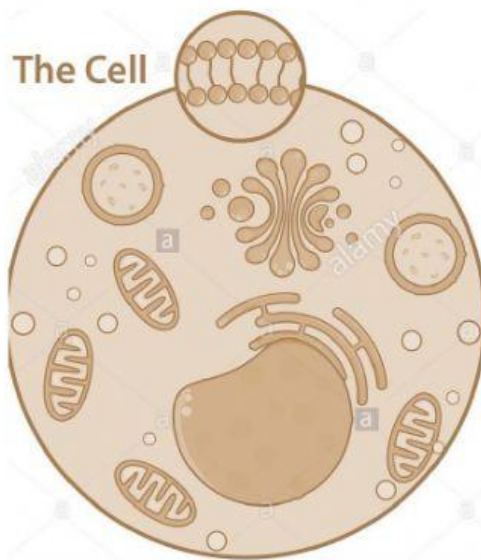


Células procariotas

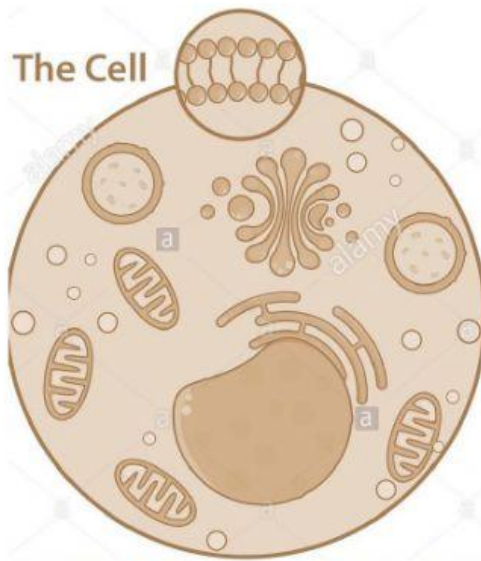


Células eucariotas

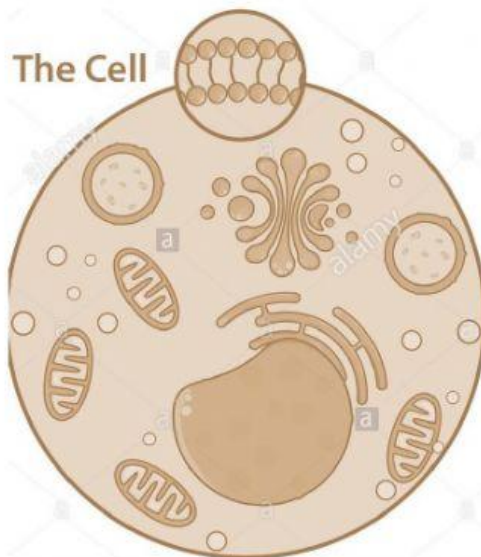
3. Escribe el nombre de la parte seleccionada y define su función



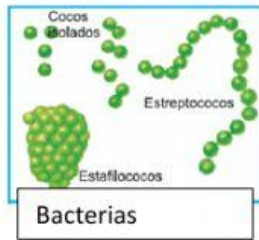
4. Escribe el nombre de la parte señalada y define su función



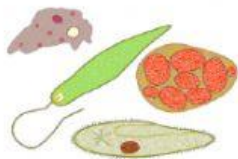
5. Escribe el nombre de la parte señalada y define su función



6. Relaciona el ser vivo con el reino en el que se agrupa



Reino vegetal



Protozoos

Reino Monera



Mariposa

Reino Protista



Reino Animal

7. Completa la información según corresponda.

Características	Célula procariota	Célula eucariota
Núcleo		
Conforma organismos		
Pertenecen a este tipo de célula		