

## 2.2 Reka bentuk mekanikal

### 2.2.1 Mengenal Pasti Komponen Mekanikal

1. Padankan gambar dengan nama komponen mekanikal yang betul.

Pautan	Takal	Aci sesondol	Galas bebola	Rantai	Tali sawat
--------	-------	--------------	--------------	--------	------------

Tuil/tuas	Gelongsor	Bindu	Gear	Aci engkol
-----------	-----------	-------	------	------------

2. Namakan jenis-jenis gear berikut.

3. Padankan gambar rajah di bawah dengan pilihan jawapan yang diberikan.

Beban

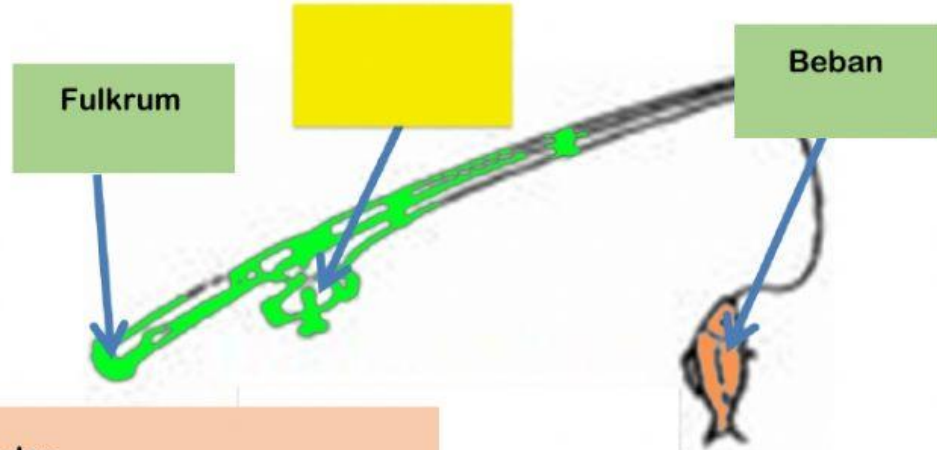
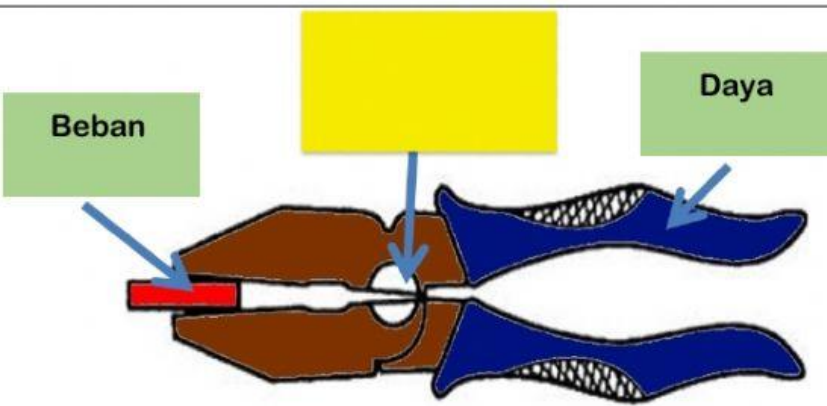
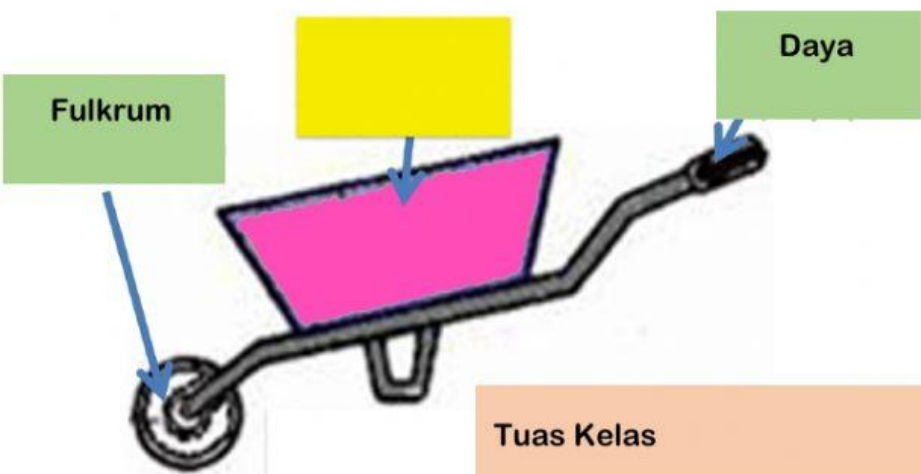
Kedua

Fulkrum

Ketiga

Pertama

Daya

 <p>Fulkrum</p> <p>Beban</p> <p>Tuas Kelas</p>
 <p>Beban</p> <p>Daya</p> <p>Tuas Kelas</p>
 <p>Fulkrum</p> <p>Daya</p> <p>Tuas Kelas</p>