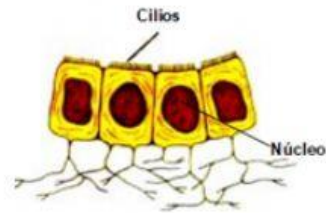
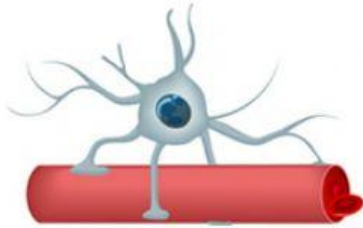


Aplica lo aprendido



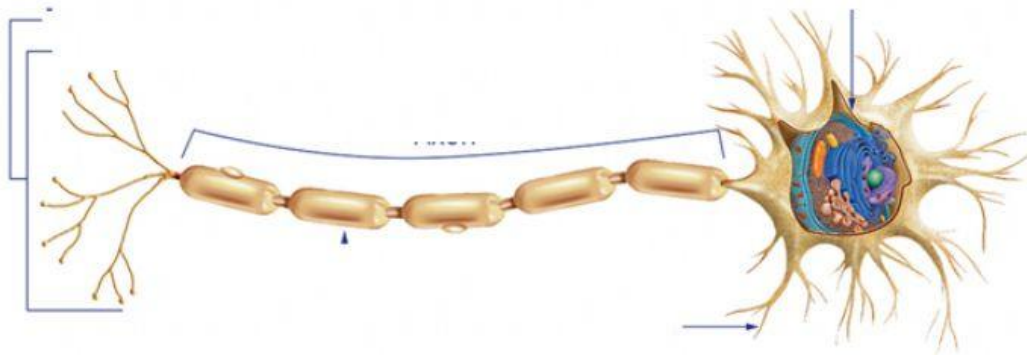
1.- Indica el nombre de cada célula de la imagen



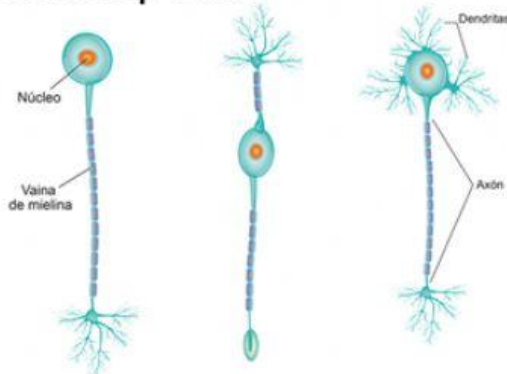
2.- ¿Qué células realizan esta función?

- 🧠 Produce vaina de mielina en el SNP _____
- 🧠 Recubre los ventrículos _____
- 🧠 Macrófagos del SNC _____
- 🧠 Apoyo estructural del sistema nervioso _____

3.- Identifica 3 estructuras de la imagen



4.- De acuerdo a cada definición indica a que célula corresponde



- A. En su mayoría están en el SNC
- B. Se encuentra en nuestros ojos
- C. Detecta cambios de temperatura

