

Ficha de Estudo do Meio

3.º Ano

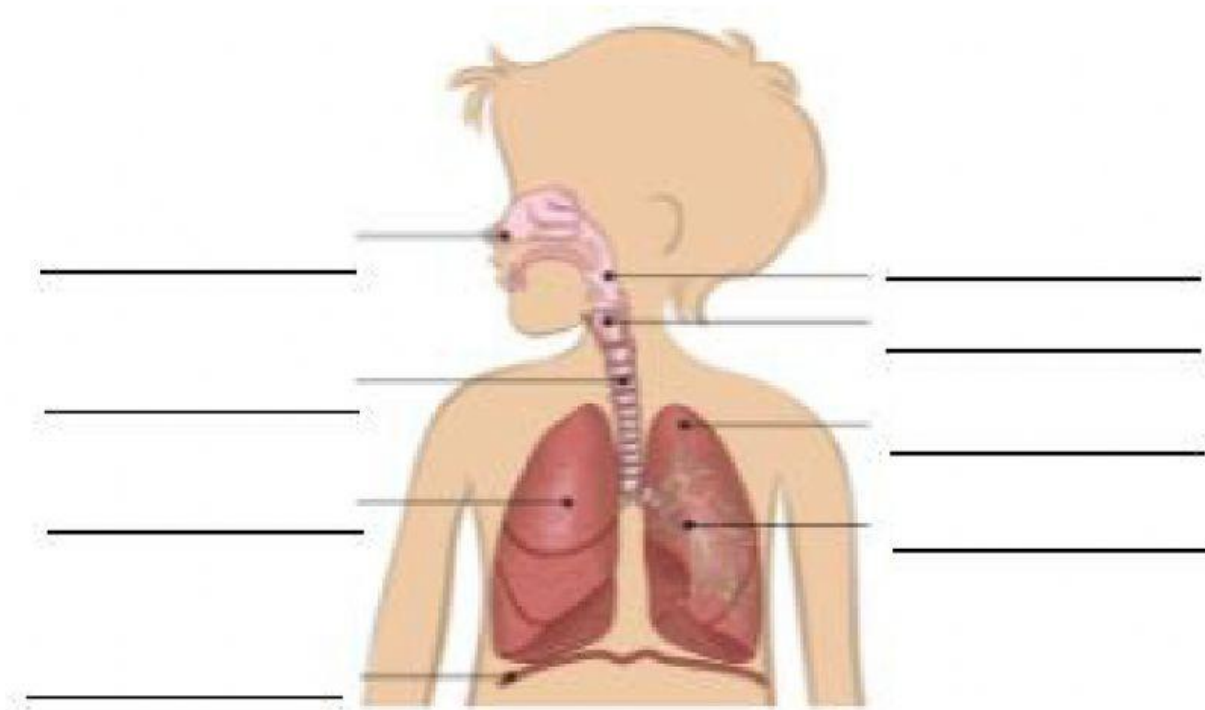
Nome do grupo: _____

Escola: _____

Data: ____/____/____

Professor(a): _____

1 - Faz a legenda da imagem seguinte.



2 – Completa as frases com as seguintes palavras.

fossas nasais brônquios traqueia ar expirado pulmões laringe faringe ar inspirado

O ar entra pelas _____, passa pela _____, _____, _____ e segue pelos _____ até aos _____.

Nos pulmões, o sangue recebe o oxigénio do _____ e liberta o dióxido de carbono que vai ser libertado através do _____.

Ficha de Estudo do Meio

3.º Ano

3 – Liga corretamente.

Inspiração ...

...saída de ar nos pulmões.

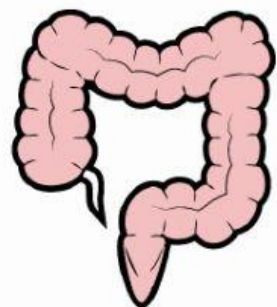
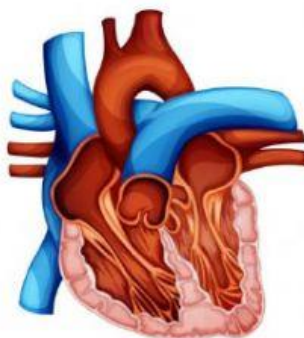
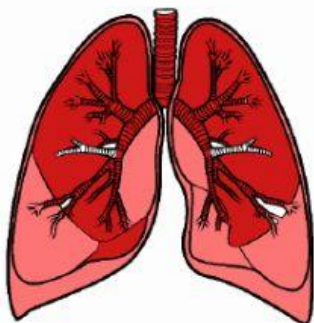
Expiração ...

...entrada de ar nos pulmões.

4 – Assinala as afirmações verdadeiras

Deves inspirar sempre pelo nariz.	
Fazer exercício físico prejudica a nossa saúde.	
Deves arejar o teu quarto todos os dias.	
O pulmão esquerdo é maior que o pulmão direito.	
Os peixes não precisam de oxigénio para viver.	
Fumar prejudica a saúde.	
À entrada e saída de ar dos pulmões chama-se ventilação pulmonar.	
O diafragma faz parte do sistema respiratório.	

5 – Ouve a seguinte texto e indica a imagem correta.



Bom trabalho!