

Nombre: _____

Grado: _____

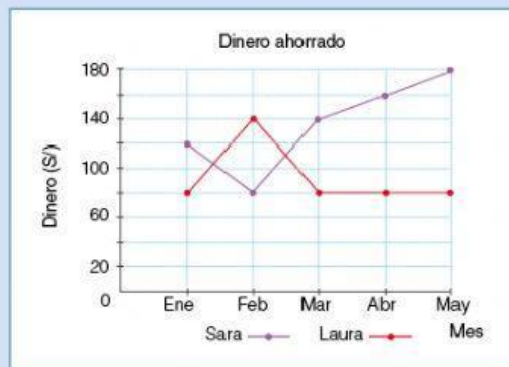
Fecha: _____

Instrucciones

Lea atentamente y responda los siguientes ítems:

1. Lee y observa lo siguiente. Luego, contesta las preguntas [INICIO] a la [FIN].

Sara y Laura son dos amigas que decidieron ahorrar para viajar en sus próximas vacaciones. En el gráfico se muestra lo ahorrado durante los cinco primeros meses.

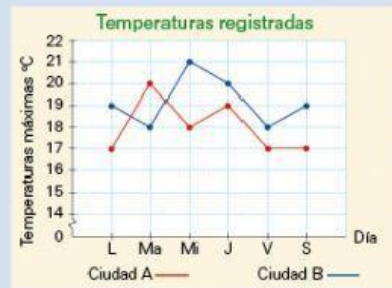


¿Cuánto es la diferencia entre lo ahorrado en total por Sara y Laura?

- a) S/ 680
- b) S/ 460
- c) S/ 360
- d) S/ 220

2. Lee y observa lo siguiente. Luego, contesta las preguntas 2 a la 5.

Luisa y Jorge registran la temperatura promedio de dos ciudades durante 6 días.

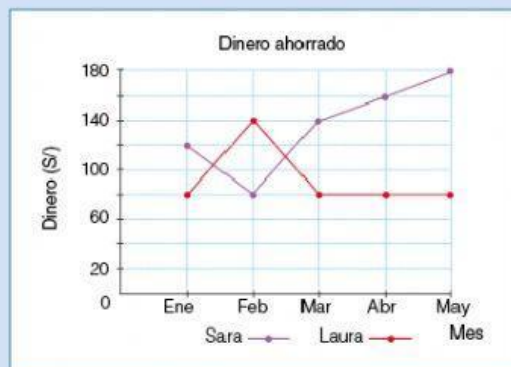


¿En qué días la temperatura en la ciudad A se mantuvo constante?

- a) De viernes a sábado.
- b) De jueves a viernes.
- c) De miércoles a jueves.
- d) De martes a miércoles.

3. Lee y observa lo siguiente. Luego, contesta las preguntas 3 a la 3.

Sara y Laura son dos amigas que decidieron ahorrar para viajar en sus próximas vacaciones. En el gráfico se muestra lo ahorrado durante los cinco primeros meses.



¿En qué mes ahorraron entre las dos más de S/ 230, pero menos de S/ 250?

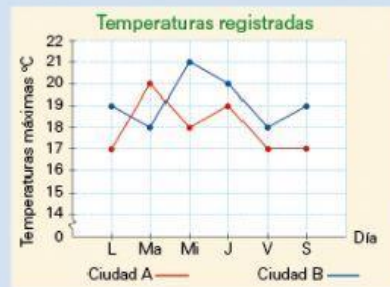
- a) En febrero
- b) En marzo
- c) En abril
- d) En mayo

4. ¿En qué mes ahorraron más entre las dos?

- a) En febrero
- b) En marzo
- c) En abril
- d) En mayo

5. Lee y observa lo siguiente. Luego, contesta las preguntas 5 a la 5.

Luisa y Jorge registran la temperatura promedio de dos ciudades durante 6 días.

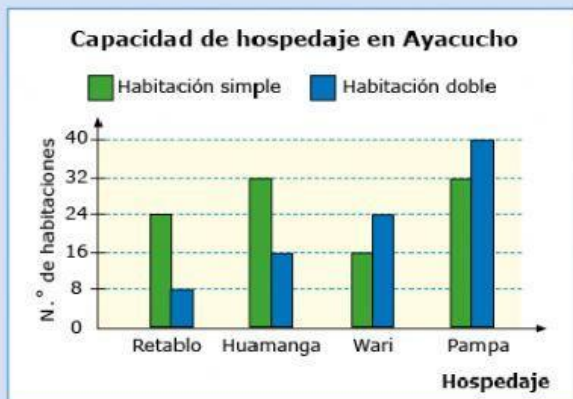


¿Qué día la diferencia de temperaturas fue mayor?

- a) El martes
- b) El miércoles
- c) El jueves
- d) El viernes

6. Lee la situación y observa lo siguiente. Luego, contesta la pregunta.

En Ayacucho se realiza un estudio sobre la cantidad de hospedajes aptos para recibir a los turistas que llegarán por las fiestas patronales.



¿Qué hospedaje tiene 40 habitaciones en total?

- a) Retablo
- b) Huamanga
- c) Wari
- d) Pampa

7. Lee atentamente. Luego, responde la pregunta.

La tabla muestra los materiales que se reciclan en toneladas en dos distritos.

Material reciclado	Distritos	
	Praderas	Lomas
Papel	40	60
Aluminio	50	70
Vidrio	70	80
Plástico	80	50

¿Es correcto afirmar que se recicló más en el distrito de Praderas? ¿Por qué?

- a) No, porque se recicló 20 toneladas más en Lomas.
- b) No, porque se recicló 30 toneladas más en Lomas.
- c) Sí, porque se recicló 20 toneladas más en Praderas.
- d) Sí, porque se recicló 30 toneladas más en Praderas.

8. Lee atentamente. Luego, responde la pregunta.

El número de personas atendidas en un centro médico en los meses de enero y febrero, se registró en esta tabla:

Especialidad	Número de personas	
	Enero	Febrero
Cardiología	160	200
Dermatología	240	280
Odontología	360	320
Oftalmología	320	240

Se afirma que dermatología es la más visitada en los meses de enero y febrero. ¿Es correcta la afirmación? ¿Por qué?

- a) Si, porque la más visitada fue dermatología.
- b) No, porque la más visitada fue cardiología.
- c) No, porque la más visitada fue odontología.
- d) No, porque la más visita fue oftalmología.