

CIENCIAS NATURALES

Identifica las fuerzas de campo según los ejemplos.

**Fuerza
Eléctrica**

Provoca atracción de los objetos hacia el centro de cada objeto.


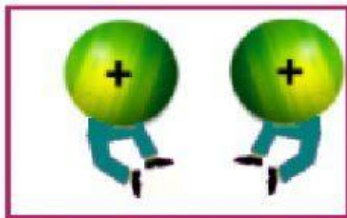
**Fuerza
Magnética**

La fuerza por la cual los imanes se atraen o se repelen entre sí y atraen a los objetos ferromagnéticos se denomina.

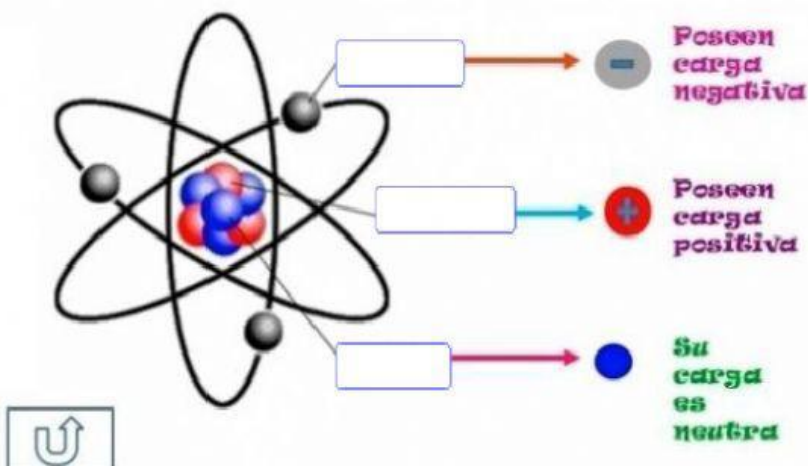
**Fuerza
Gravedad**

Ocasionada por la carga eléctrica de un cuerpo, el cuerpo puede adquirir electrones o perder electrones.

En magnetismo como en la Fuerza eléctrica, dos cuerpos pueden atraerse o repelerse. Identificalos.



Indica las partes del átomo.



Neutrón

Protón

Electrón

