



Control 2 Números decimales

Nombre: _____

Fecha: _____


/20 Puntos en total

Contenidos:

- Números decimales a fracciones.
- Orden y comparación de números decimales.
- Valor posicional hasta milésimos.
- Lectura y escritura de números decimales hasta milésimos.

I. ¿Qué número decimal representa la parte coloreada?

a)

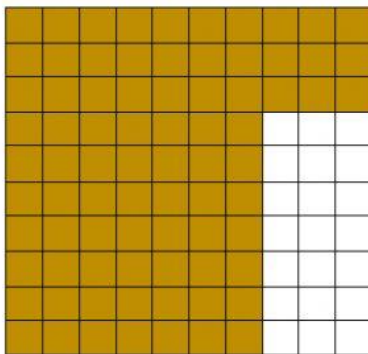


Número decimal: _____

Fracción: _____

/2 Puntos

b)




Número decimal: _____

Fracción: _____

/2 Puntos



c)

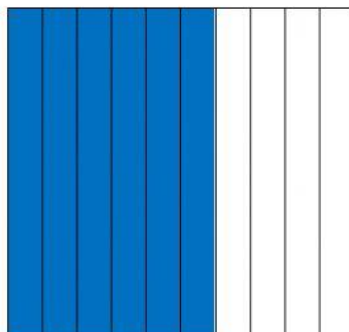


Número decimal: _____

Fracción: _____

/2 Puntos

d)



Número decimal: _____

Fracción: _____

/2 Puntos



II. Compara los siguientes números y escribe $>$, $<$ o $=$ según corresponda.

a) 5,1 5,2

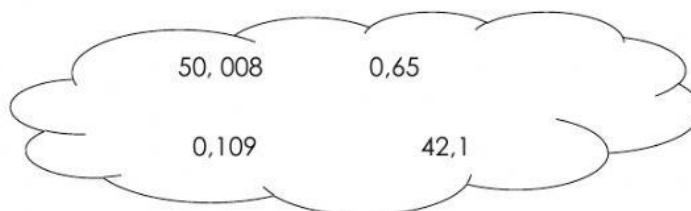
b) 0,12 1,2

c) 78,59 7,859

d) 18,577 18,577

/4 Puntos

III. Ordena según corresponda cada cifra de cada número decimal según corresponda y escribe con palabras como se lee.



Decena	Unidad	,	décimos	centésimos	milésimos	Se lee

/ 8 Puntos