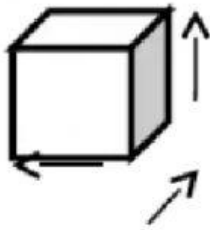
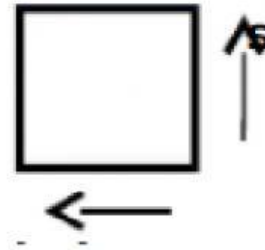


ESCOLA ESTADUAL TENENTE MÓL – 3º ANO

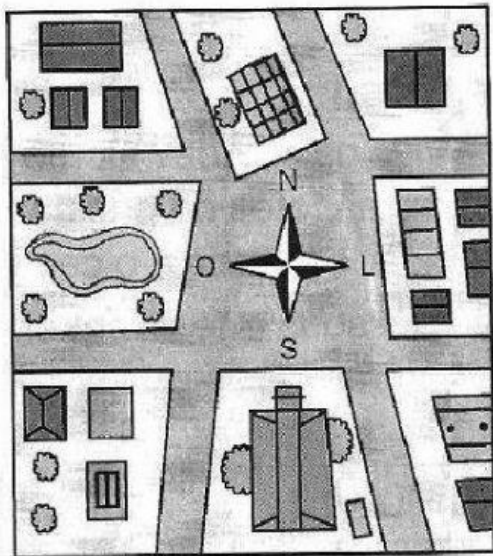
GEOGRAFIA

1 - Dê o nome das dimensões conforme as setas indicam:





2 - Observe a imagem da planta de um bairro e responda às questões utilizando as informações da legenda ao lado:



LEGENDA			
	Sobrado		Cinema
	Árvore		Lago
	Casa		Loja
	Prefeitura		Igreja
	Garagem		Edifício
	Ponto de ônibus		

a) Oriente-se pela rosa dos ventos e descubra a direção destes lugares:

• igreja: _____

• lago: _____

• prefeitura: _____

• garagem: _____

b) De acordo com a legenda, quantas casas tem nessa imagem? _____