








## CICLO DE VIDA DE LOS SERES VIVOS

1.- Ordena de manera correcta los ciclos de vida los siguientes seres vivos.



1	2	3	4	5

 <p>Nido</p>	<p>2</p>	 <p>Embrión</p>
<p>4</p>	<p>5</p>	<p>6</p>



1	2	3	4	5	6
---	---	---	---	---	---

2.- Escribe el nombre correcto de los ciclos por los que pasa un ser vivo.



2.- Coloca el nombre adecuado en cada uno de los ciclos por los que pasa la mariposa.



LARVA

MARIPOSA

HUEVO

PUPA