

ใบงาน เรื่อง ความสัมพันธ์ระหว่างสิ่งมีชีวิตกับสิ่งมีชีวิต (2)
 กลุ่มสาระการเรียนรู้วิทยาศาสตร์และเทคโนโลยี ชั้นประถมศึกษาปีที่ 5

คะแนน

ชื่อ _____ นามสกุล _____ ชั้น _____ เลขที่ _____

มฐ. ว 1.1 ป.5/2

คำชี้แจง : ให้นักเรียนระบุความสัมพันธ์ของสิ่งมีชีวิตที่อยู่ร่วมกันในระบบนิเวศ

ภาวะล่าเหยื่อ

ภาวะได้ประโยชน์ร่วมกัน

ภาวะพึ่งพากัน

ภาวะอิงอาศัย

ภาวะปรสิต




กล้วยไม้

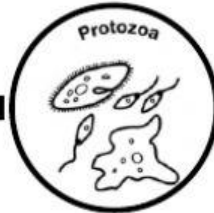


ต้นไม้

1. _____



ปลวก



โพรโตซัว

2. _____



ควาย

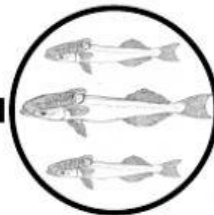


นกเอี้ยง

3. _____




ปลาฉลาม



เทาจลาม

4. _____



มดดำ




เพลี้ยอ่อน

5. _____



คน



เหา

6. _____



สุนัข



เห็บ

7. _____



ดอกไม้



ผีเสื้อ

8. _____