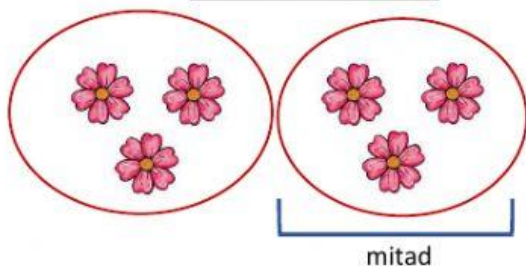





La mitad



La mitad de 6 es 3 Porque $6 = 3 + 3$

Practicamos

1. Marca la mitad de cada cantidad y completa.

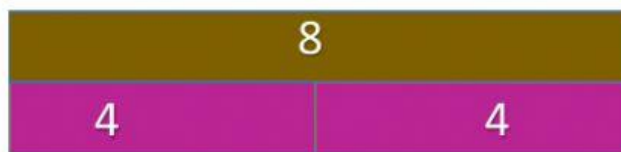


La mitad de 10 es



La mitad de 4 es

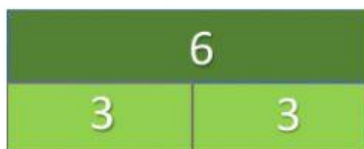
2. Trabajamos con las regletas de colores. Marcamos la mitad y completamos.



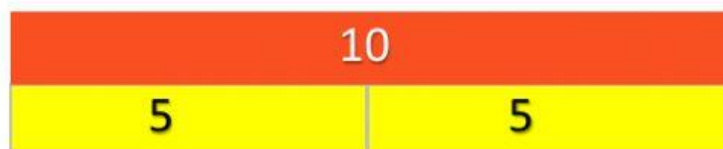
La mitad de 8 es



La mitad de 2 es



La mitad de 6 es



La mitad de 10 es