

**Integro lo aprendido N°2 "Ciencias naturales"**  
**1° básico**


Nombre:

Puntaje real: 22 pts.


Puntaje obtenido:

Nota:

1. Pinta solo lo vivo.(5 pts.)



2. Pinta según la clave. Rojo los animales que se alimentan de hierbas y frutas y azul los que se alimentan de otros animales. (4 pts.)



3. ¿Con qué característica de los seres vivos se relaciona la imagen? Marque. (1 pt.)



Crecer y desarrollarse ☐

Reproducirse ☐

4. ¿Con qué característica de los seres vivos se relaciona la imagen? Marca. (1 pt.)



Crecer y desarrollarse ☐

Responder a estímulos ☐



Prof. Verónica Albarca F.

5. Pinta el ☐ según la clave. (4 pts.)

Rojo: nace de un  
huevo.

Azul: nace del  
vientre de su madre.







Prof. Verónica Albarca F.

6. Observa las imágenes y responde las preguntas. (2 pts.)



a. ¿Cuál de estas plantas tiene las condiciones para vivir?  
Pinta.

Planta 1

Planta 2

Planta 3

b. Si dejamos por mucho tiempo estas plantas en esas condiciones. ¿Cuál podría dejar de vivir? Pinta.

Planta 1


Planta 2

Planta 3



Prof. Verónica Albarca F.


7. ¿Cuál de estos grupos está formado solo por seres vivos?  
(1 pt.)



A




B



C


8. ¿Cuál de estos grupos está formado por lo no vivo? (1  
pt.)



A



B






C


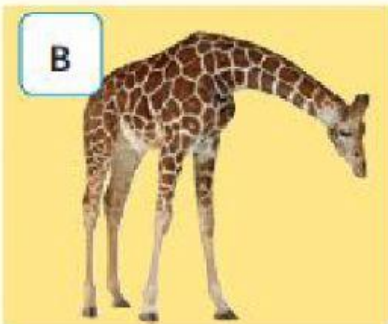



Prof. Verónica Albarca F.

9. ¿Cuál de estos animales es carnívoro? (1 pt.)



10. ¿Cuál de estos animales es herbívoro? (1 pt.)



11. ¿Cuál de estos animales nace del vientre de su madre? (1 pt.)

