

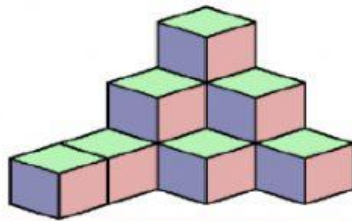
PLANTEL KABAH

CICLO ESCOLAR 2020-2021

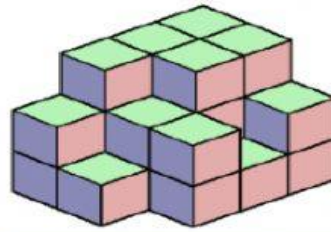
ACTIVIDAD DE TALLER DE DESTREZAS Y HABILIDADES MATEMÁTICAS 2

Volúmenes

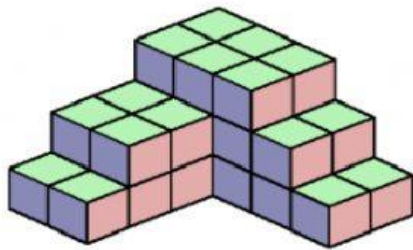
Instrucción: Resuelve los siguientes desafíos y envía tu evidencia de trabajo. Considera como unidad de medida el



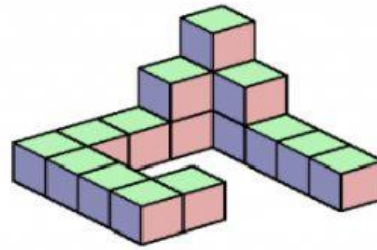
V = _____



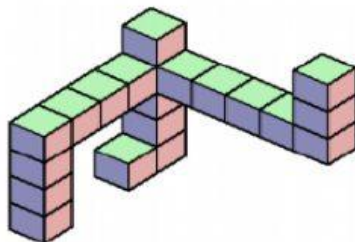
V = _____



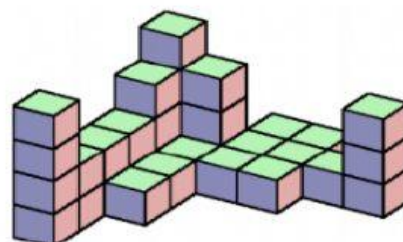
V = _____



V = _____



V = _____



V = _____