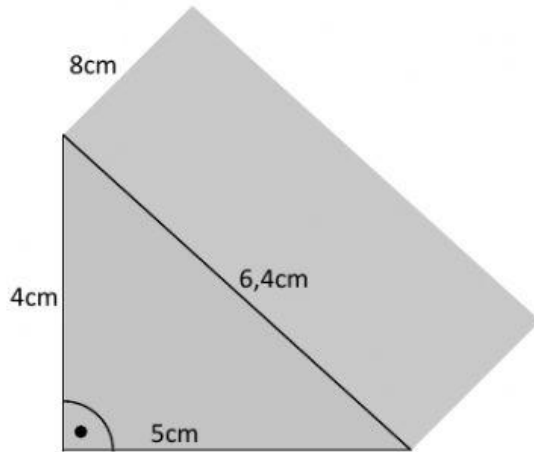
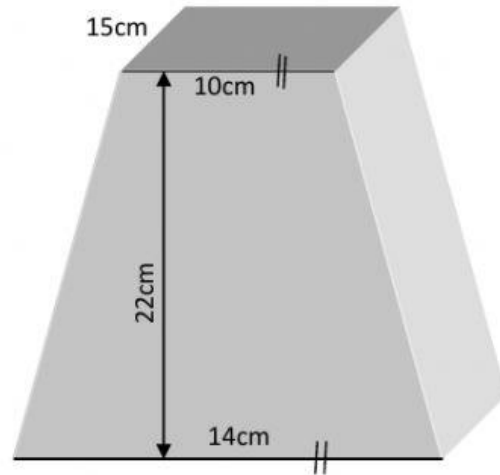


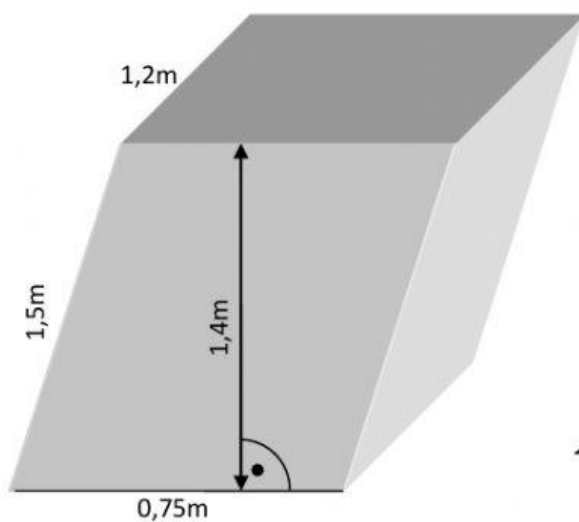
Ermittle die Volumen der folgenden Körper!



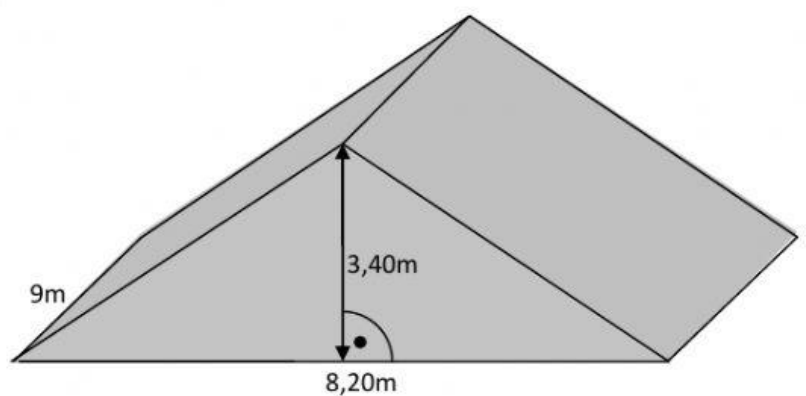
Grundfläche:
 Höhe des Prismas:
 Volumen: $V = A_G \cdot h =$



Grundfläche:
 Höhe des Prismas:
 Volumen: $V = A_G \cdot h =$



Grundfläche:
 Höhe des Prismas:
 Volumen: $V = A_G \cdot h =$



Grundfläche:
 Höhe des Prismas:
 Volumen: $V = A_G \cdot h =$