

NOME: \_\_\_\_\_ DATA: \_\_\_\_/\_\_\_\_/\_\_\_\_

## AVALIAÇÃO 2º BIMESTRE

LEIA ATENTAMENTE O TEXTO A SEGUIR:

### FESTA JUNINA

A fogueira está queimando,  
toda noite se ilumina.  
Alegria, minha gente,  
vamos à Festa Junina.

O Zeca e a Maricota  
na quadrilha estão dançando,  
Enquanto o Manuel Banguela  
a sanfona vai tocando...



A FESTA CITADA NO TEXTO É

- A) CARNAVAL
- B) DIA DAS MÃES
- C) FESTA DOS PAIS
- D) FESTA JUNINA

MARQUE A PALAVRA ABAIXO QUE RIMA COM BALÃO

- A) PIPOCA
- B) COCADA
- C) QUENTÃO
- D) CANJICA

MARQUE A ÚLTIMA SÍLABA DO NOME DA FIGURA ABAIXO

- A) PI
- B) PO
- C) CA
- D) PA



MARQUE O NÚMERO DE SÍLABAS QUE POSSUI A PALAVRA PIPOCA.


- A) 4
- B) 3
- C) 2
- D) 1

MARQUE A OPÇÃO ONDE ESTÁ ESCRITA A MESMA PALAVRA QUATRO VEZES.

- |    |   |    |   |    |   |    |   |
|----|---|----|---|----|---|----|---|
| A) | Cocada<br>PIPOCA<br><b>PAMONHA</b><br>canjica | B) | Cocada<br>COCADA<br><b>cocada</b><br>cocada | C) | Milho<br>COCADA<br><b>quentão</b><br>bolo | D) | Paçoca<br>BALÃO<br><b>cocada</b><br>pamonha |
|----|---|----|---|----|---|----|---|

MARQUE O NOME DO DESENHO ABAIXO

- A) PAÇOCA
- B) PAMONHA
- C) BOLO
- D) CANJICA



MARQUE A OPÇÃO QUE MOSTRA PARA QUE SERVE O TEXTO ABAIXO



- A) Dar um recado
- B) Contar uma piada
- C) Convidar para Festa Junina
- D) Convidar para aniversário

MARQUE A FIGURA QUE COMEÇA COM A MESMA SÍLABA DA PALAVRA PAÇOCA.

A)



B)



C)

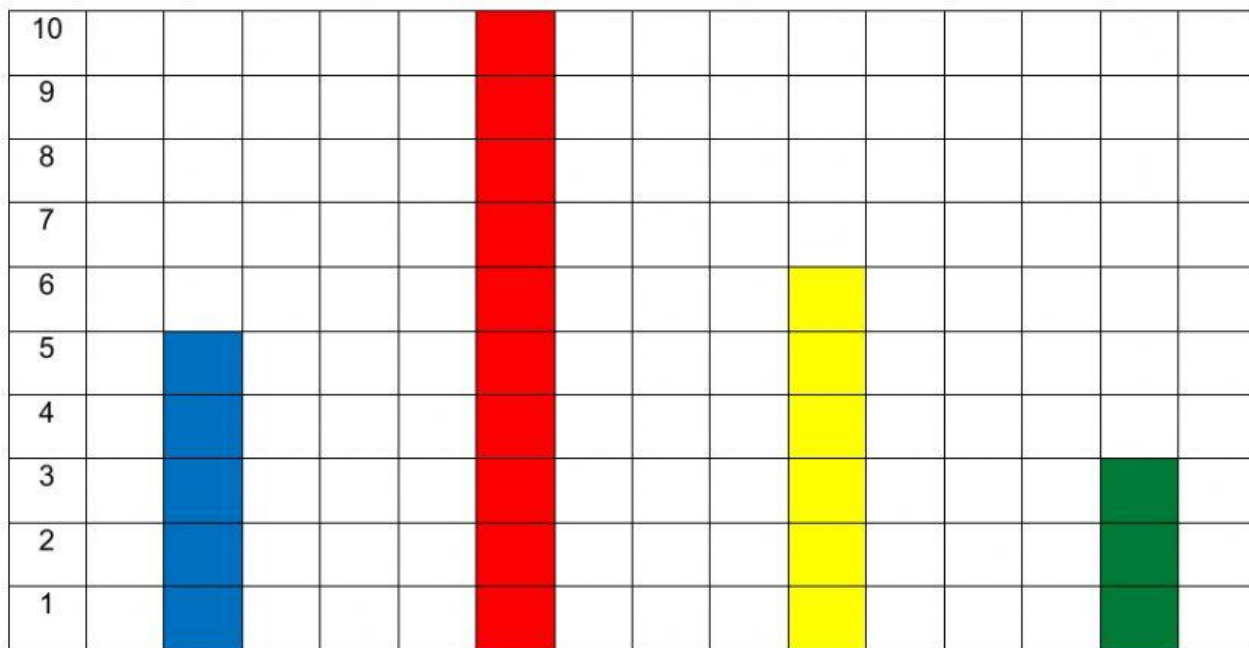


D)



VEJA O GRÁFICO

### NÚMERO DE RIFAS QUE VENDEU PARA A FESTA JUNINA



FAÇA UM X NO QUADRINHO QUE MOSTRA A CRIANÇA QUE VENDEU A MAIOR QUANTIDADE DE RIFAS.

- A)
- B)
- C)
- D)

ALICE VENDEU VINTE E SETE RIFAS. MARQUE O NÚMERO DE RIFAS QUE ALICE VENDEU.

- A) 702
- B) 207
- C) 72
- D) 27

NA GINCANA DA FESTA JUNINA A TURMA DO 2º ANO A MARCOU 20 PONTOS E O 2º ANO B MARCOU 25 PONTOS. MARQUE O NÚMERO DE PONTOS QUE O 2º ANO B FEZ A MAIS QUE O 2º ANO A.

- A) 2
- B) 5
- C) 10
- D) 20

VEJA OS PREÇOS DOS PRODUTOS NA FESTA JUNINA E MARQUE O PRODUTO MAIS CARO.



NÍCOLAS GANHOU 12 CAIXAS DE ESTALINHOS NA PESCARIA E NICOLY GANHOU 25. MARQUE QUANTOS ESTALINHOS OS DOIS TÊM JUNTOS.

- A) 27
- B) 37
- C) 35
- D) 5



DANILO GANHOU 6 AMOEBAS NO JOGO DAS ARGOLAS E DEU 2 PARA O BERNARDO. MARQUE O NÚMERO DE AMOEBAS QUE DANILO AINDA TEM.

- A) 2
- B) 4
- C) 8
- D) 5



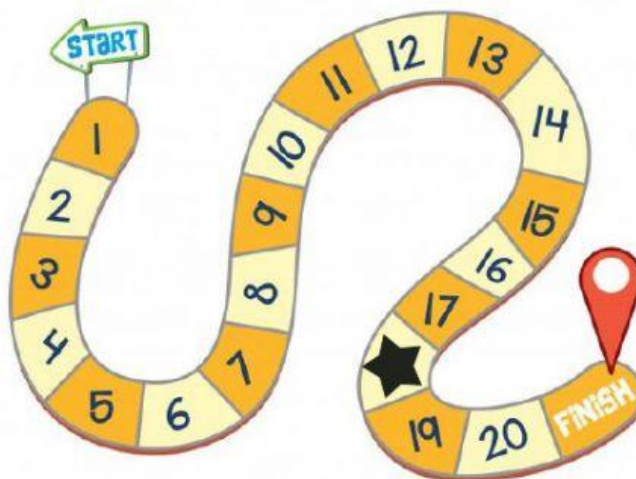
A PROFESSORA ANUNCIOU A FESTA JUNINA FALTANDO APENAS UMA SEMANA PARA O EVENTO. MARQUE O NÚMERO DE DIAS QUE FALTAVAM PARA A FESTA.

- A) 2
- B) 4
- C) 7
- D) 5



VEJA O TABULEIRO DE UM JOGO E MARQUE A CASA QUE O JOGADOR PAROU.

- A) 27
- B) 17
- C) 18
- D) 5

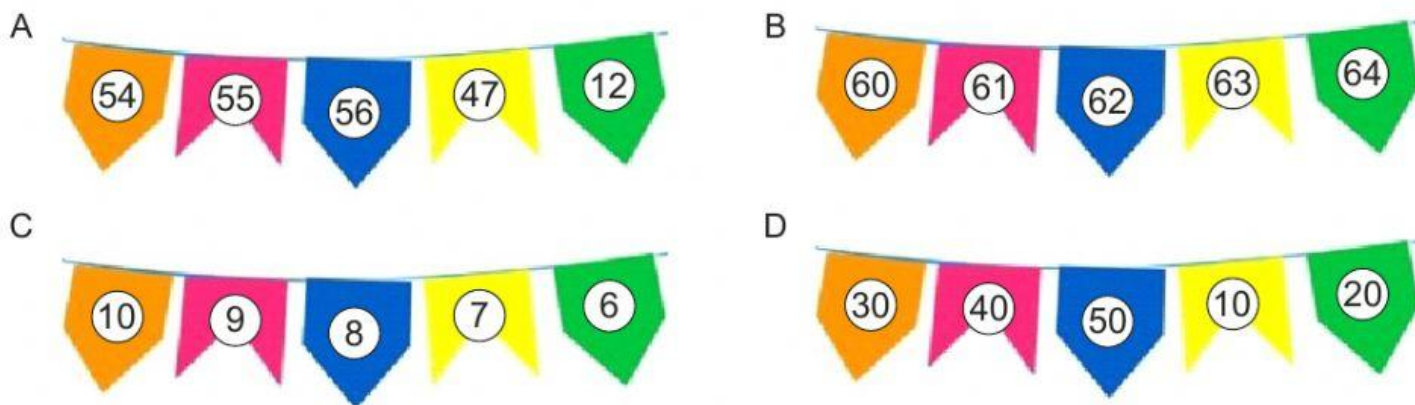


ISABELLE ESTÁ NUMERANDO AS BANDEIRINHAS MARQUE O PRÓXIMO NÚMERO QUE ELA DEVERÁ REGISTRAR.




- A) 56
- B) 59
- C) 60
- D) 47

MARQUE AS BANDEIRINHAS QUE ESTÃO NUMERADAS EM ORDEM CRESCENTE.



MARQUE A BARRAQUINHA QUE ESTÁ À DIREITA DA BARRACA DA PESCARIA.





MARQUE AS AFIRMAÇÕES CORRETAS

- ☐ ESTA FIGURA REPRESENTA UMA PAISAGEM URBANA.
- ☐ HÁ NO LAGO QUATRO PATOS
- ☐ SE SOMARMOS A QUANTIDADE DE VACAS E DE CAVALOS TEREMOS CINCO ANIMAIS
- ☐ AS VACAS CAMINHAM LIVRES PELO PASTO
- ☐ AO TODO HÁ ONZE ANIMAIS NA FAZENDA

VEJA A FIGURA E ESCRVA UMA FRASE.

ESCREVA OS NÚMEROS QUE OUVIR

