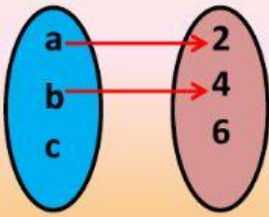


EJERCICIO #1a Tema: Relaciones y funciones. Valor 10 Pts.

Responde las preguntas según los Diagramas Sagitales

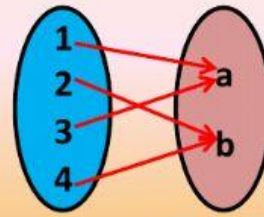


Parejas ordenadas: { }

¿Es una función?

El Dominio:

El Codominio:



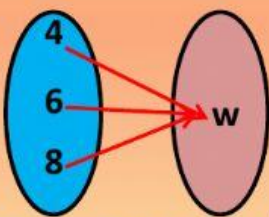
Parejas ordenadas: { }

¿Es una función?

El Dominio:

El Codominio:

fácil

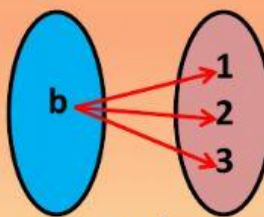


Parejas ordenadas: { }

¿Es una función?

El Dominio:

El Codominio:

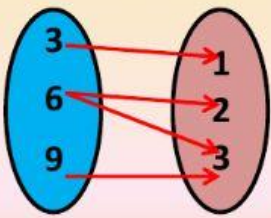


Parejas ordenadas: { }

¿Es una función?

El Dominio:

El Codominio:

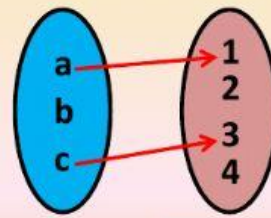


Parejas ordenadas: { }

¿Es una función?

El Dominio:

El Codominio:

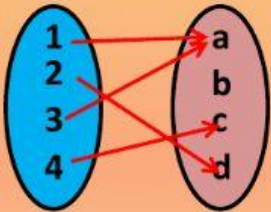


Parejas ordenadas: { }

¿Es una función?

El Dominio:

El Codominio:



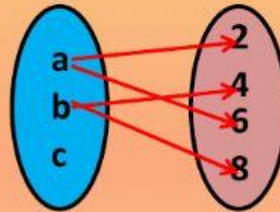
Parejas ordenadas: { }

¿Es una función?

El Dominio:

El Codominio:

Termine



Parejas ordenadas: { }

¿Es una función?

El Dominio:

El Codominio: