

DBA # 5: Realiza mediciones con instrumentos y unidades no convencionales, como pasos, cuadrados o rectángulos, cuartas, metros, entre otros.

Medir es comparar.

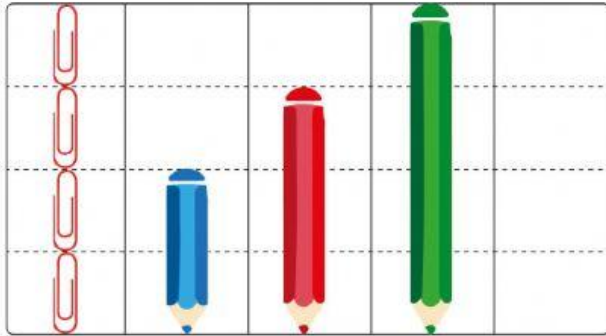
¿Cuánto mide de ancho una hoja de bloc tamaño carta?

Registra tus observaciones

_____	Monedas
_____	Clips
_____	Saragozas
_____	Tapas

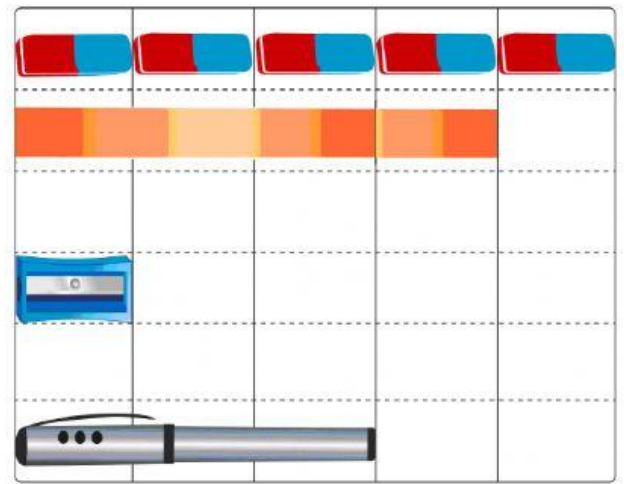


Observa las siguientes imágenes y determine cuánto mide cada lápiz según los clips.










¿Cuál es el más largo de todos? ¿Cuántos clips más largo?

Estudiante:

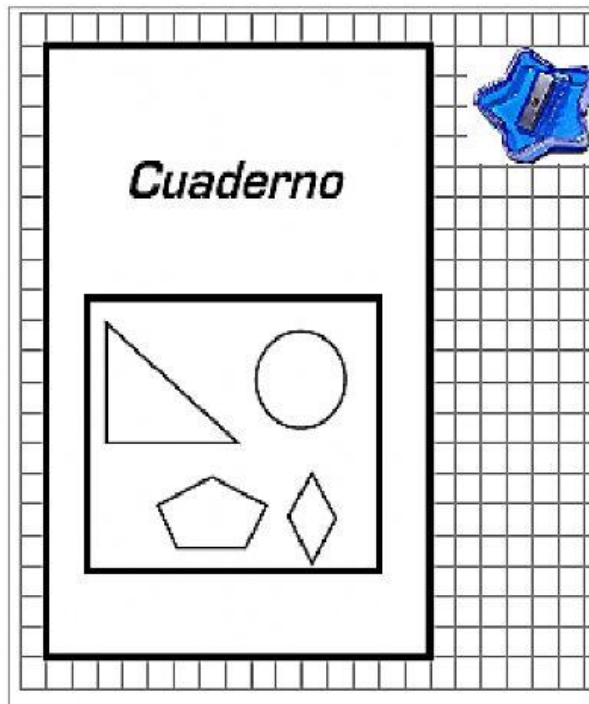


De acuerdo con lo anterior, responda en el espacio asignado

- El  mide: 
- La  mide: 
- El  mide 
- Marque con un check ¿Cuál mide más? 



Cristián tiene un cuaderno de matemáticas y un sacapuntas como se observa en la figura. Si Cristian mide el largo de su cuaderno con el sacapuntas, ¿Cuántos sacapuntas mide este lado?



- | |
|-----------------|
| A. 2 sacapuntas |
| B. 1 sacapuntas |
| C. 5 sacapuntas |
| D. 4 sacapuntas |

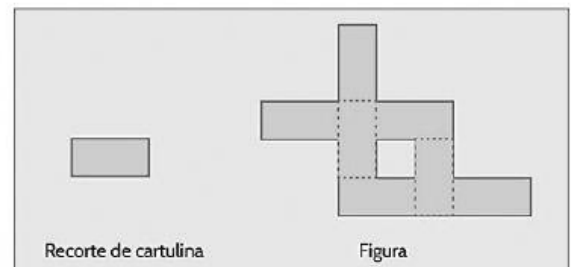
Practica. Gabriela midió el largo de su cama utilizando una bota y haciendo marcas en el piso. Observa la figura.



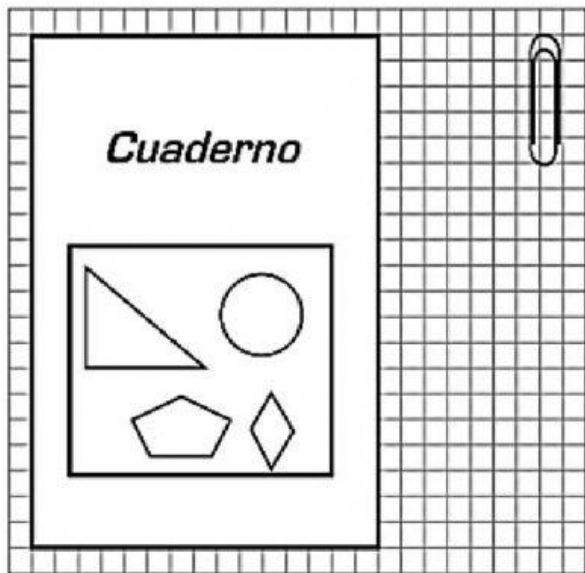
¿Cuántas botas mide el largo de la cama de Gabriela?

- A.) 3 botas B.) 4 botas C.) 5 botas D.) 7 botas

Miguel mide la superficie de la figura usando recortes de cartulina iguales. Observa.



- | | |
|----------------------------|----------------------------|
| A. 3 recortes de cartulina | B. 4 recortes de cartulina |
| C. 7 recortes de cartulina | D. 8 recortes de cartulina |




Clip

Figura

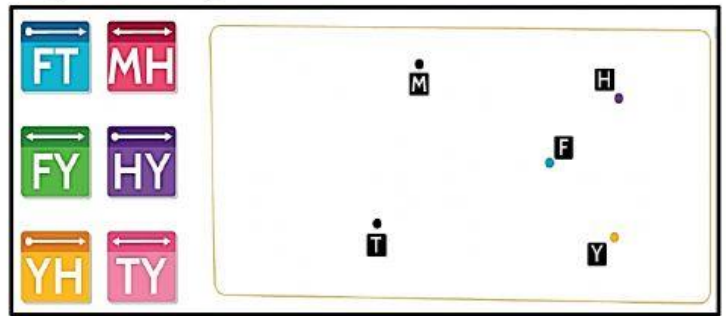
Este cuaderno mide _____ clips de alto.

Fortalecer aprendizajes

Escribe el nombre de cada objeto geométrico, según su representación gráfica.



Traza las siguientes rectas, semirrectas o rayos y segmentos, según se indica.



Escribe las palabras dadas donde corresponda según lo que muestra la ilustración.

Horizontal Vertical Perpendiculares

Paralelas Se cruzan o intersecan

