



¿cuánto he aprendido?


1: Escribe el nombre de estas figuras planas.



a: _____



b: _____



c: _____



d: _____



f: _____




g: _____

2: Escribe el número de lados y vértices de las siguientes figuras.



Lados

Vértices



Lados

vértices



lados


vértices

3: Encontramos el polígono desconocido. En cada uno de los siguientes casos.

A: tiene cuatro lados, cuatro vértices y cuatro ángulos.

B: tiene tres lados, tres vértices, y tres triángulos.

4: observo las siguientes figuras y escojo las respuestas correctas.



Los objetos que tiene forma semejante entre si son.

A:

las caras de la caja de cereales son:

b:

el área de la base de cereales es:

c: