

CONOCIMIENTO DEL MEDIO

Observa la habitación de **María**. Es hora de ir a la escuela y no encuentra su tarea.



¿Por qué María no puede encontrar su tarea?

- ☐ Porque se le olvidó dónde la puso.
- ☐ Porque tiene su habitación muy desordenada.

¿Cómo puede María ayudar en su casa?

- ☐ Debe limpiar su cuarto y ordenarlo.
- ☐ Debe pedirle a su familia que limpie su habitación.

Marca con una ☒ las acciones que corresponden a un **acuerdo para convivir en familia**. **Selecciona 2.**



Marca con una ☒ las acciones que permiten cuidar el agua. **Selecciona 2.**



Marca con una ☒ las respuestas correctas. **Selecciona 2.**

¿Qué puedes hacer para cuidar el agua y mantenerla limpia?

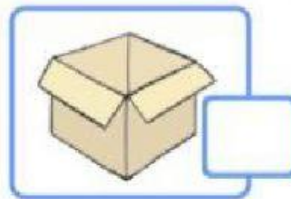

☐ Poner la basura en los lugares adecuados.

☐ Tirar más plástico en las calles.


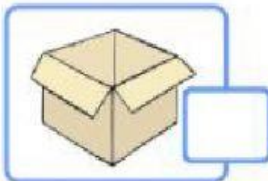
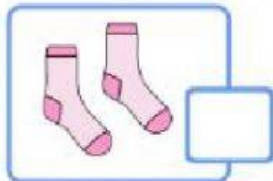
☐ Si veo una fuga de agua me voy inmediatamente.

☐ Avisar a un adulto si veo una fuga de agua.

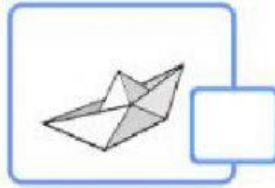
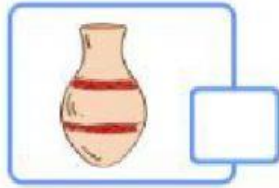

¿Cuál de los siguientes objetos no se puede doblar ni torcer?



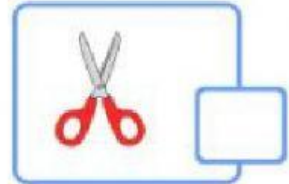
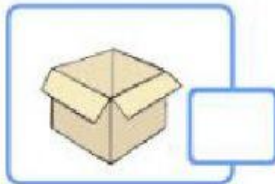
Marca con una ☒ el objeto más **áspero**.



Marca con una ☒ el objeto más **flexible**.



Marca con una ☒ el objeto más **suave**.



Escribe de qué manera se están moviendo los objetos:
deformando, jalando, empujando.

