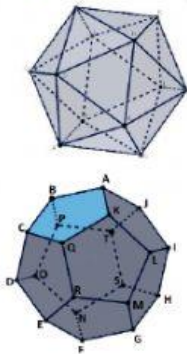


Revisa el siguiente video y contesta las siguientes preguntas.



1. Son sólidos platónicos excepto:

2. Une los polígonos regulares con sus imágenes correctas:



Dodecaedro

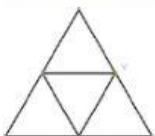
Icosaedro

3. Los poliedros regulares convexos son llamados también sólidos platónicos.

4. El hexaedro regular o cubo tiene:

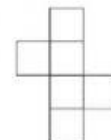
- a) 6 caras, 12 aristas y 8 vértices
- b) 8 caras, 6 aristas y 12 vértices
- c) 12 caras, 8 aristas y 6 vértices

5. Arrastra el desarrollo plano con el nombre del sólido correcto.



Hexaedro
regular

Tetraedro
regular



6. Escribe el nombre de los sólidos platónicos que escuchaste:

