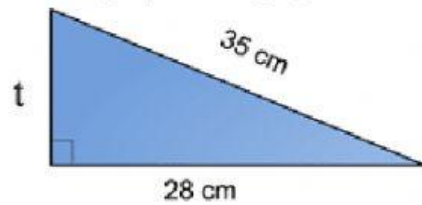


Nama :

Kelas :

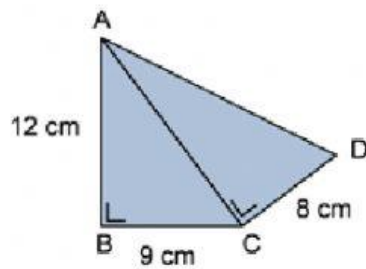
Dengan menggunakan Teorema Pythagoras tentuk menentukan

Panjang t pada segitiga siku-siku di bawah ini adalah...



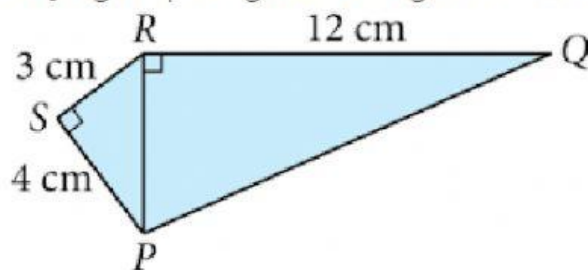
1.

Panjang AD pada gambar bangun di bawah adalah ...



2.

Panjang PQ pada gambar bangun di bawah adalah ...



3.