

## MATEMATICAS

1. Qué fracción representa cada una de las partes del pastel?

- a) Un medio
- b) Un cuarto
- c) Un tercio
- d) Un octavo



2. ¿Qué número sigue en la secuencia 321, 323, 325, 327, 329, 331...?

- a) 330
- b) 332
- c) 333
- d) 335

3. ¿Cuál es la descomposición aditiva de 5487?

- a)  $54 + 87$
- b)  $5 + 4 + 8 + 7$
- c)  $5000 + 400 + 80 + 7$
- d)  $5000 + 40 + 80 + 7$

4. Números que se utilizarían para redondear a la centena más cercana en estos números:  $3116 + 4496$

- a)  $3120 + 4490$
- b)  $3100 + 4500$
- c)  $3000 + 4000$
- d)  $3200 + 4450$

5. Si deseo repartir la misma cantidad de manzanas en 3 cajas. ¿Cuántas debo poner en cada una?

- a) 3
- b) 21
- c) 8
- d) 7



Viernes 25 de Junio, 2021

6. Observa la pizza. ¿Qué parte le toca a cada integrante de una familia de cuatro personas?

a)  $\frac{4}{8}$

b)  $\frac{8}{2}$

c)  $\frac{2}{8}$

d)  $\frac{2}{4}$



7. ¿Qué número falta para completar la multiplicación



$\times 9 = 72?$

a) 6

b) 9

c) 7

d) 8


8. ¿Cuál fracción es menor?

a)  $\frac{2}{8}$

b)  $\frac{5}{8}$

c)  $\frac{6}{8}$

d)  $\frac{3}{8}$



Viernes 25 de Junio, 2021

9. Lalo y sus dos amigos se repartieron una caja con 18 chocolates. ¿Qué operación debes realizar para saber cuántos chocolates le tocan a cada uno?

a)  $18 \div 2$

b)  $18 \times 3$

c)  $18 \div 3$

d)  $3 \times 18$

10. ¿Qué número falta en la división?

a) 204

b) 54

c) 514

d) 504

$$\begin{array}{r} 63 \\ 8 \overline{) \phantom{0} } \\ \underline{24} \phantom{0} \\ 0 \end{array} ?$$

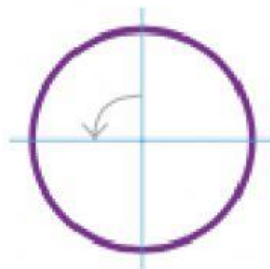
11. ¿Cuánto mide el ángulo que representa una cuarta parte del círculo?

a)  $180^\circ$

b)  $360^\circ$


c)  $90^\circ$

d)  $45^\circ$



Viernes 25 de Junio, 2021

12. ¿Cuál es el nombre de estos ángulos? Selecciona la respuesta que te indique el nombre de los ángulos como están ordenados.



1.

2.

3.

- a) 1. Agudo 2. Recto 3. Obtuso
- b) 1. Obtuso 2. Agudo 3. Llano
- c) 1. Obtuso 2. Recto 3. Agudo
- d) 1. Llano 2. Obtuso 3. Agudo

13. Si repartes 230 entre 5. ¿Cuál sería el resultado de tu división?

- a) 26
- b) 36
- c) 56
- d) 46

$$5 \overline{) 230}$$

14. ¿Cuántos grados giras cuando das media vuelta?

- a) 45°
- b) 180°
- c) 90°
- d) 360°

15. ¿Cómo se llama el instrumento que te ayuda a medir el tamaño de los ángulos?.

- a) Regla
- b) Compás
- c) Transportador
- d) Escuadra

Viernes 25 de Junio, 2021