

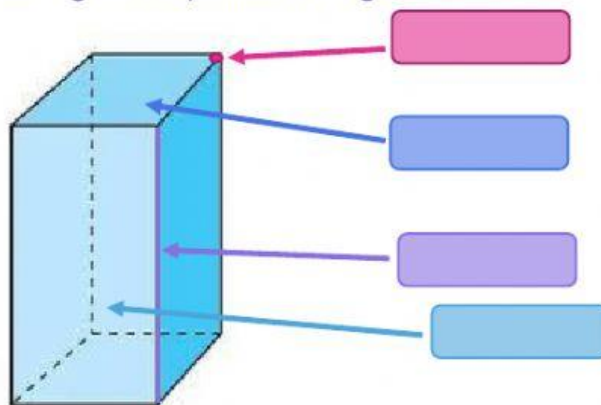
CUERPOS GEOMÉTRICOS

Los cuerpos geométricos son aquellas figuras que tienen tres dimensiones (largo, ancho y alto) que ocupan un lugar en el _____ y tienen _____.


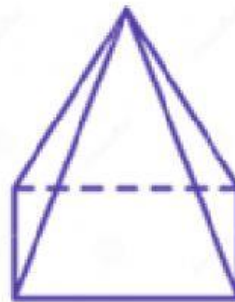
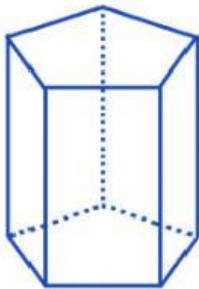
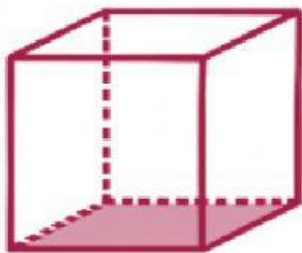
Hay dos tipos de cuerpos geométricos, los: _____ y los _____.

Dentro de los poliedros, también hay dos tipos, los: _____ y los _____.

Escribe los elementos del siguiente poliedro irregular:



Escribe si es un poliedro regular o irregular:



En los poliedros irregulares, también hay dos tipos, los _____ que tienen dos bases y las _____ que tienen una base.

Escribe si es un prisma o pirámide:

