

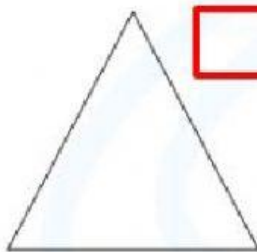
REFUERZA EN CASA

1. Indica el número total de diagonales de un

- Triángulo →
- Cuadrilátero →
- Heptágono →
- Hexágono →

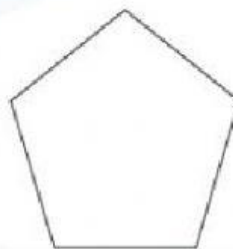
2. Calculando el número de diagonales

Traza las diagonales de los polígonos y completa el número total en el cuadro respectivo.

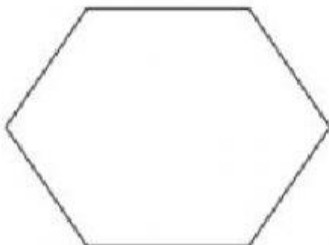








Act



Polígono	Número total de diagonales
Triángulo	<input type="text"/>
Cuadrilátero	<input type="text"/>
Pentágono	<input type="text"/>
Hexágono	<input type="text"/>