

Centro de Educación Básica República Federal de Alemania

Examen de Ciencias Naturales II Parcial

Primer grado "3" Maestra: Hasive Oyuela

Nombre del alumno(a): _____

1. Une con una línea la imagen con la emoción que corresponde.



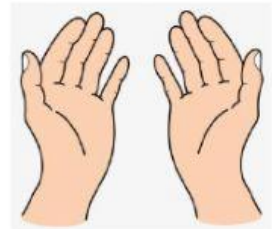

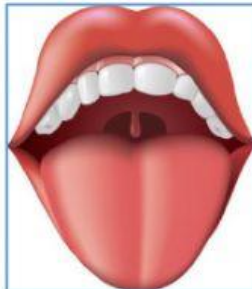
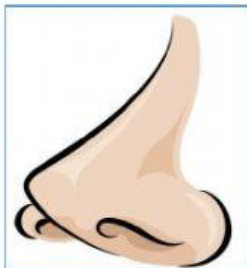
Triste

Enojado

Alegre

Asustado

2. Arrastra la imagen del sentido al cuadro del nombre donde corresponde.



Sentido de la
vista

Sentido del tacto

Sentido del gusto


Sentido del olfato

3. Identifica la parte del cuerpo que señala la flecha y arrastra el nombre donde corresponde.

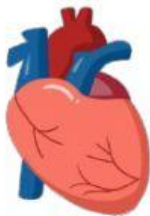
Cabeza

Tronco

Extremidades



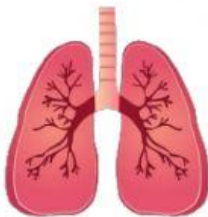
4. Relaciona la función con el órgano al que pertenece.



Es un órgano que participa en el proceso de respiración.



Es un órgano que bombea sangre a todo el cuerpo



Es un órgano principal de la digestión.