



Institución Educativa Privada "JUAN XXIII"

Máxima exigencia académica para un ingreso seguro y mejor capacidad en el nivel superior

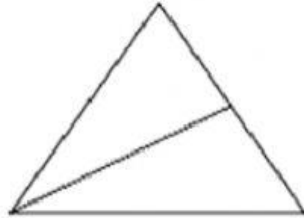
EXAMEN MENSUAL DE RAZ. MATEMÁTICO

Alumno(a):

Profesora Ross Mery Murrugarra Estrada

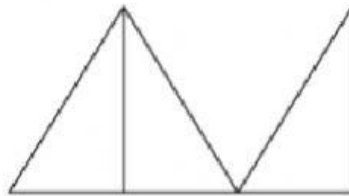
Fecha: / / 2021

1. ¿Cuántos triángulos observas en la figura?



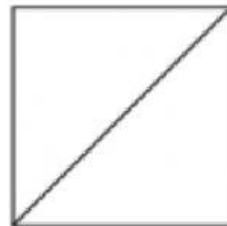
- a) 1 b) 2 c) 3 d) 4

2. ¿Cuántos triángulos observas en la figura?



- a) 1 b) 2 c) 3 d) 4

3. ¿Cuántos triángulos observas en la figura?



- a) 1 b) 2 c) 3 d) 4

4. Aplica la propiedad de la adición (CONMUTATIVA)

$$500 + 345 = \boxed{} + \boxed{}$$

$$\begin{array}{c} \vee \\ \end{array} = \begin{array}{c} \vee \\ \end{array}$$

$$\boxed{} = \boxed{}$$

¡Todos unidos venceremos al COVID-19, respetemos las normas sanitarias! - 2021!

5. Aplica la propiedad de la adición (ASOCIATIVA)

$$(200 + 102) + 50 = \boxed{} + \left(\boxed{} + \boxed{} \right)$$

$$\boxed{} + \boxed{} = \boxed{} + \boxed{}$$

$$\boxed{} = \boxed{}$$

6. Encuentra la cifra que falta en cada operación matemática:

$$\begin{array}{r} 4 \ \boxed{} \ 9 \ + \\ \boxed{} \ 6 \ \boxed{} \\ \hline \boxed{} \ 3 \ 4 \ 2 \end{array}$$

7. Encuentra la cifra que falta en cada operación matemática:

$$\begin{array}{r} \boxed{} \ 2 \ \boxed{} \ 7 \ 6 \ - \\ 3 \ \boxed{} \ 2 \ 9 \ 4 \\ \hline 4 \ 7 \ 5 \ \boxed{} \ \boxed{} \end{array}$$

8. Encuentra la cifra que falta en cada operación matemática:

$$\begin{array}{r} 6 \ \boxed{} \ 7 \ \boxed{} \ + \\ \boxed{} \ 6 \ \boxed{} \ 4 \\ \hline 9 \ 1 \ 2 \ 9 \end{array}$$