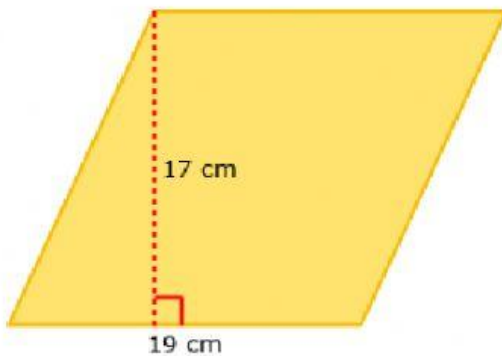


1. Perímetro y áreas

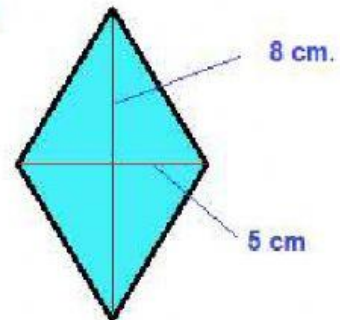
1. ¿Cuál es el área?



centímetros cuadrados

2. ¿Cuál es el área?

$$A = \frac{D \times d}{2}$$



centímetros cuadrados

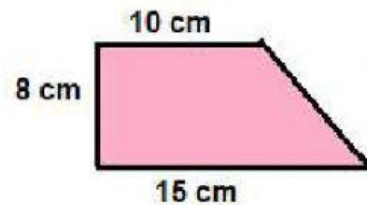
3. Si el diámetro de un círculo mide 6 kilómetros, ¿cuál es la circunferencia del círculo?



Toma 3.1416 como valor de π .

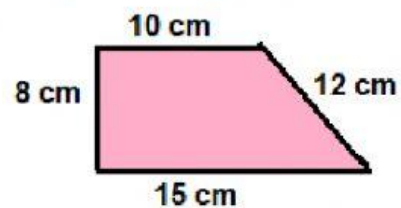
kilómetros

4. ¿Cuál es el área?



centímetros cuadrados

5. ¿Cuál es su perímetro?



centímetros