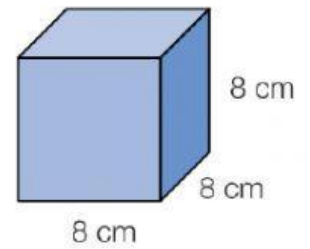
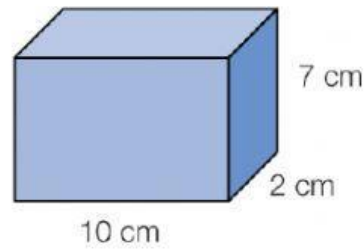
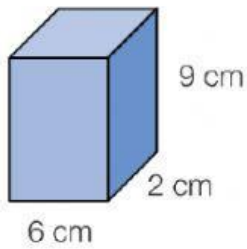


1. Observa las medidas y calcula su volumen.



2. Calcula

- Un cubo mide 1 dm y 2 cm de arista. ¿Cuál es su volumen en centímetros cúbicos?

- Un ortoedro mide 8 cm de largo, 5 cm de ancho y 4 cm de alto. ¿Cuál es su volumen en metros cúbicos?

3. Calcula el volumen de cada figura.

